


2年 11 (1)	表やグラフ	年 組 名前
------------------------	-------	-----------

2年4組で すきなやさいを しらべました。ひょうにあらわしましょう。



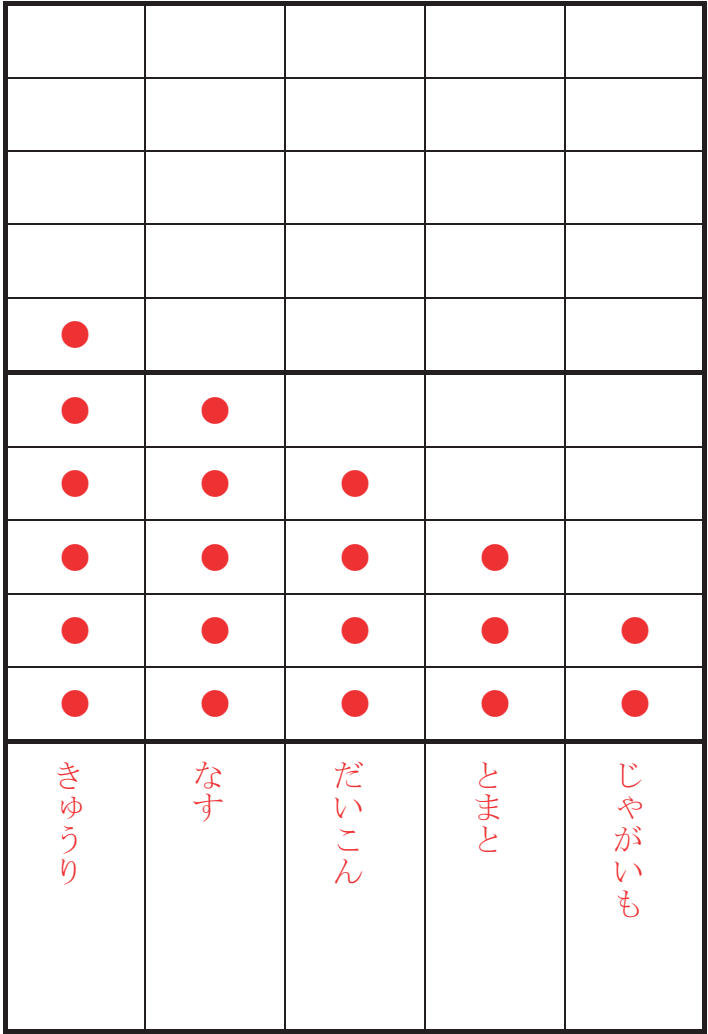
しゅるい	きゅうり	なす	だいこん	とまと	じゃがいも
数 (人)	6	5	4	3	2

2年 11 (2)	表やグラフ	年 組 名前
------------------------	-------	-----------

2年4組で すきなやさいを しらべました。
ひょうをもとに、グラフにあらわしましょう。

しゅるい	きゅうり	なす	だいこん	とまと	じゃがいも
数(人)	6	5	4	3	2

すきな やさい しらべ




一番多いやさい
〔 きゅうり 〕

一番少ないやさい
〔 じゃがいも 〕

じゃがいもと、なすの
ちがい
〔 3 人 〕

2年 11 (3)	表やグラフ	____年 ____ ^{くみ} 組 名前
------------------------	-------	----------------------------------

2年2組で すきなりのものを しらべました。ひょうにあらわしましょう。



しゅるい	自てん車	車	しょう ぼう車	パトカー	きゅうき ゆう車	ヘリコプター	ロケット
数 (人)	4	5	8	7	2	3	1

2年 11 (4)	表やグラフ	年 組 名前
------------------------	-------	-----------

2年2組で すきな のりものを しらべました。
 ひょうをもとに、グラフにあらわしましょう。

しゅるい	自てん車	車	しょうぼう車	パトカー	きゅうきゅう車	ヘリコプター	ロケット
数(人)	4	5	8	7	2	3	1

すきな のりもの しらべ

●						
●	●					
●	●					
●	●	●				
●	●	●	●			
●	●	●	●	●		
●	●	●	●	●	●	
●	●	●	●	●	●	●
し ょ う ぼ う 車	パ ト カ ー	車	自 て ん 車	ヘ リ コ プ タ ー	き ゅう き ゅう 車	ロ ケ ツ ト

2年 11 (5)	表やグラフ	年 組 名前
--------------------------------------	--------------	-----------

2年1組で すきなきゅうしょくのメニューを しらべました。
 ひょうにあらわして、グラフにまとめましょう。

カレー	うどん	うどん	うどん	カレー
スパゲッティ	シチュー	カレー	あげパン	スパゲッティ
あげパン	カレー	シチュー	カレー	あげパン
うどん	あげパン	シチュー	あげパン	カレー

しゅるい	カレー	あげパン	うどん	シチュー	スパゲッティ
数(人)	6	5	4	3	2

すきな きゅうしょくの メニュー しらべ

●				
●	●			
●	●	●		
●	●	●	●	
●	●	●	●	●
●	●	●	●	●
カレー	あげパン	うどん	シチュー	スパゲッティ