

C1	1年 算数	年 <input type="text"/> 月 <input type="text"/> 日 組 <input type="text"/> 番 <input type="text"/>
		名 <input type="text"/>

1 つぎの かずは いくつでしょう。

① 1を3こ、10を7こあわせたかず

73

② 10を15こあつめたかず

150

③ 1を2こ、10を4こ、100を5こ
あつめたかず

542

④ 29より8おお大きいかず

37

⑤ 82より7ちい小さいかず

75

⑥ $\square + \bigcirc = 10$ にあてはまるかずを
3くみ かきましょう。

3、7 4、6 5、5など

2 けいさんを しましょう。

① $4 + 5 = 9$

② $7 + 7 = 14$

③ $40 + 30 = 70$

④ $3 + 80 = 83$

⑤ $8 + 21 = 29$

⑥ $2 + 65 = 67$

3 けいさんを しましょう。

① $7 - 5 = 2$

② $10 - 3 = 7$

③ $11 - 9 = 2$

④ $80 - 60 = 20$

⑤ $37 - 7 = 30$

⑥ $28 - 5 = 23$

4 けいさんを しましょう。

① $6 + 3 - 5 = 4$

② $9 - 4 + 3 = 8$

③ $10 - 5 + 4 = 9$

C2	1年 算数	年 月 日 年 月 日
		名まえ

5 ^{あか}赤いおりがみが6まい、^{あお}青いおりがみが14まいあります。

①あわせてなんまいでしょう。

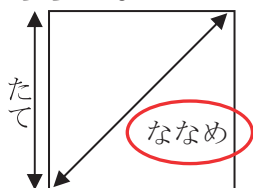
20まい

②どちらがなんまいおおいでしょう。

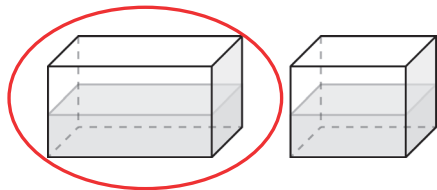
あおいおりがみが8まいおおい

6 くらべましょう。

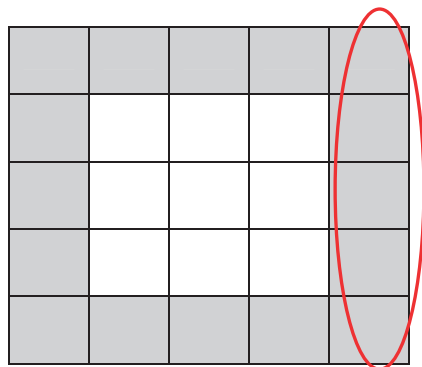
①どちらがながいでしょう。



②どちらがおおいでしょう。



③どちらがひろいでしょう。



7 なんじなんぷんでしょう。

①



3じ50ぷん

②



9じ(0ぷん)

③



6じ20ぷん

8 いろいろなかたちをかきましょう。

