

A1	2年 算数	__年 __組 __番
		まえ 名前

1 つぎの数はいくつですか。

① 10を46こあつめた数
460

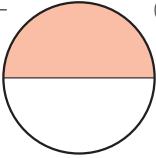
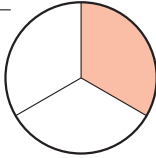
② 100を3こ、10を7こ、1を2こあわせた数
372

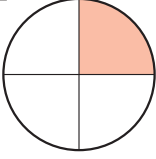
③ 100を80こあつめた数
8000

④ 1000を10こあつめた数
10000

⑤ 5000より400小さい数
4600

2 $\frac{1}{2}$ 、 $\frac{1}{3}$ 、 $\frac{1}{4}$ の大きさに色をぬりましょう。(れい)

① $\frac{1}{2}$  ② $\frac{1}{3}$ 

③ $\frac{1}{4}$ 

3 計算をしましょう。

① $34+18=52$

② $68+51=119$

③ $23+89=112$

④ $8+94=102$

4 計算をしましょう。

① $47-39=8$

② $90-30=60$

③ $137-55=82$

④ $108-29=79$

5 計算をしましょう。

① $2 \times 7=14$ ② $3 \times 4=12$

③ $4 \times 7=28$ ④ $5 \times 9=45$

⑤ $6 \times 3=18$ ⑥ $7 \times 8=56$

⑦ $8 \times 8=64$ ⑧ $9 \times 6=54$

⑨ $8 \times 3=24$ ⑩ $9 \times 2=18$

6 あめ玉がいくつかあります。そのあめ玉に7こくわえたところ、ぜんぶで15こになりました。

① この場めんを図でかきましょう。

はじめ	7こ
-----	----

-----15こ-----

② はじめにあめ玉は、何こありましたか。

$15-7=8$ 8こ

A2 2年 算数 年 組 番
名前

7 □に当てはまる数を書きましょう。

① 1 L = dL

② 1 L = mL

③ 1 cm = mm

④ 1 m = cm

⑤ 36mm = cm mm

⑥ 2 m 9 cm = cm

8 □に当てはまる数を書きましょう。

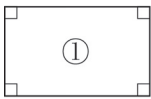
① 1 時間 = 分

② 1 日 = 時間

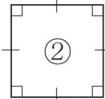
③ 1 時間 20 分 = 分

④ 110 分 = 時間 分

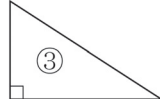
9 次の図形の名前をかきましょう。



①



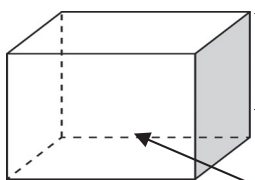
②



③

①長方形 ②正方形 ③直角三角形

10 □に当てはまることばをかきましょう



11 すきなくだものをしらべました。ひょうやグラフにせいりしましょう。

リンゴ	リンゴ	ミカン	イチゴ	リンゴ	イチゴ
リンゴ	ミカン	メロン	リンゴ	リンゴ	イチゴ
イチゴ	リンゴ	メロン	モモ	イチゴ	リンゴ
モモ	メロン	ミカン	ミカン	イチゴ	ミカン

①ひょうにせいりしましょう。

しゅるい	リンゴ	イチゴ	ミカン	メロン	モモ
数(人)	8	6	5	3	2

②下のグラフにせいりしましょう。
すきなくだものしらべ

●				
●				
●	●			
●	●	●		
●	●	●	●	
●	●	●	●	●
●	●	●	●	●
リンゴ	イチゴ	ミカン	メロン	モモ