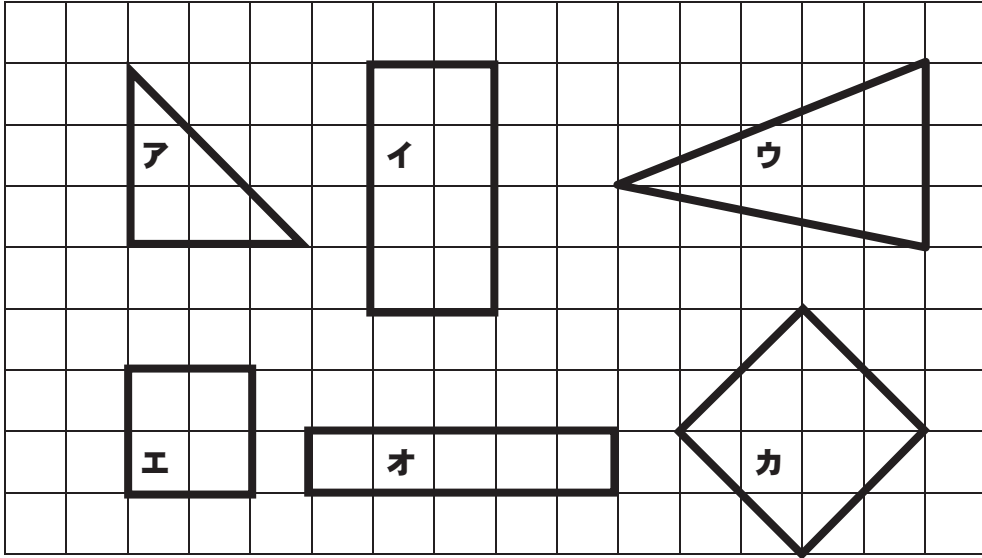


2年 9 (3)	三角形 四角形	___年 ___組
		名前

つぎの中から長方形、正方形、直角三角形をえらび、記ごうで答えなさい。




長方形 … ()

正方形 … ()

直角三角形 … ()



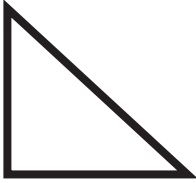
つぎの形をかきましょう。※1ますの目もりは1cmです。

- (1) 1つのへんが3cmの正方形 (2) へんの長さが3cmと5cmの長方形




2年 9 (4)	三角形 四角形	____年 ____組 名前
-----------------------	---------	-------------------

つぎのひょうをかんせいさせましょう。

図形			
図形の名前			
へんの数			
ちょう点の数			
直角の数			


つぎのかたちの中に正方形はいくつありますか。

(1)




()

(2)



()

(3)




()

2年 9 (5)	三角形 四角形	__年 __組 名前
-----------------------	---------	---------------

つぎのかたちをかきましょう。※1ますの目もりは1cmです。

(1) へんの長さが2cmと4cmの長方形
 (2) 直角となる2つの辺が2cmと5cmの直角三角形

(1) (2)




つぎのことについて、当てはまるものに○、当てはまらないものに×をつけましょ
う。

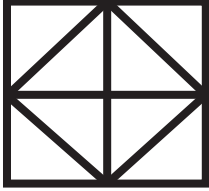
	正方形	長方形	直角三角形
ちょう点が3つ。			
むかい合うへんの長さが同じ。			
4つのかどがすべて直角。			
4つのへんがすべて同じ長さ。			

つぎのかたちの中に直角三角形はいくつありますか。

(1) (2)



()



()