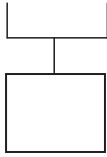


1年 4 (1)	たしざんと ひきざん	___ねん ___くみ なまえ
----------------	------------	--------------------

けいさんを しまししょう。

① $2 + 3 + 1$



② $1 + 4 + 2$

③ $4 + 2 + 3$

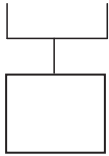
④ $7 + 3 + 5$

⑤ $2 + 4 + 6$

1年 4 (2)	たしざんと ひきざん	___ねん ___くみ なまえ
----------------	------------	--------------------

けいさんを しましょう。

① $9 - 4 - 1$



② $8 - 3 - 2$

③ $7 - 3 - 1$

④ $6 - 2 - 4$

⑤ $10 - 5 - 3$

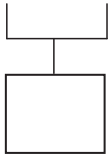
1年
4
(3)

たしざんと ひきざん

___ねん ___くみ
なまえ

けいさんを しましょう。

① $2 + 3 - 1$



② $8 - 3 + 2$

③ $10 - 8 + 3$

④ $6 + 4 - 7$

⑤ $8 + 5 - 3$