

B1**2年 算数**

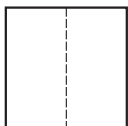
__年 __組 __番

まえ
名前**1** つぎの数はいくつですか。

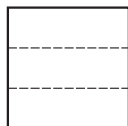
- ① 10を85こあつめた数
- ② 100を7こ、10を4こ、1を9こあわせた数
- ③ 100を30こあつめた数
- ④ 1000を10こあつめた数
- ⑤ 3000より900小さい数

2 $\frac{1}{2}$ 、 $\frac{1}{3}$ 、 $\frac{1}{4}$ の大きさに色をぬりましょう。

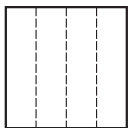
① $\frac{1}{2}$



② $\frac{1}{3}$



③ $\frac{1}{4}$

**3** 計算をしましょう。

- ① $53+29$
- ② $82+46$
- ③ $54+57$
- ④ $3+98$

4 計算をしましょう。

- ① $27-18$
- ② $60-20$
- ③ $155-62$
- ④ $103-48$

5 計算をしましょう。

- ① 2×8 ② 3×6
- ③ 4×9 ④ 5×5
- ⑤ 6×7 ⑥ 7×2
- ⑦ 8×4 ⑧ 9×8
- ⑨ 7×5 ⑩ 6×9

6 あめ玉がいくつかあります。そのあめ玉に8こくわえたところ、ぜんぶで24こになりました。

- ① この場めんを図でかきましょう。
- ② はじめにあめ玉は、何こありましたか。

B2	2年 算数	年 組 番 _____年 _____組 _____番 名前 _____
-----------	--------------	---

7 □に当てはまる数を書きましょう。

① 10dL = □ L

② 1000mL = □ L

③ 10mm = □ cm

④ 3m = □ cm

⑤ 3cm 6mm = □ mm

⑥ 209cm = □ m □ cm

8 □に当てはまる数を書きましょう。

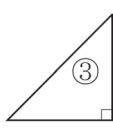
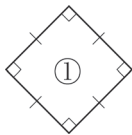
① 60分 = □ 時間

② 24時間 = □ 日

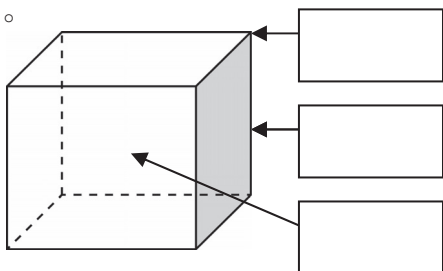
③ 80分 = □ 時間 □ 分

④ 1時間 50分 = □ 分

9 次の図形の名前をかきましょう。



10 □に当てはまることばをかきましょう。



11 すきないろをしらべました。ひょうやグラフにせいりしましょう。

あか	あお	あお	くろ	あお	もも
あお	あか	もも	くろ	あお	もも
くろ	あか	みどり	もも	あか	もも
くろ	あか	あか	あか	くろ	みどり

① ひょうにせいりしましょう。

しゅるい					
数(人)					

② 下のグラフにせいりしましょう。
すきないろしらべ
