

B1	2年 算数	__年 __組 __番
		名前 <small>まえ</small>

1 つぎの数はいくつですか。

① 10を85こあつめた数
850


② 100を7こ、10を4こ、1を9こあわせた数
749

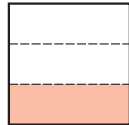
③ 100を30こあつめた数
3000

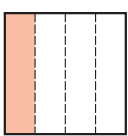
④ 1000を10こあつめた数
10000

⑤ 3000より900小さい数
2100

2 $\frac{1}{2}$ 、 $\frac{1}{3}$ 、 $\frac{1}{4}$ の大きさに色をぬりましょう。(れい)

① $\frac{1}{2}$ 

② $\frac{1}{3}$ 

③ $\frac{1}{4}$ 

3 計算をしましょう。

① $53+29=82$

② $82+46=128$

③ $54+57=111$

④ $3+98=101$

4 計算をしましょう。

① $27-18=9$

② $60-20=40$

③ $155-62=93$

④ $103-48=55$

5 計算をしましょう。

① $2 \times 8=16$ ② $3 \times 6=18$

③ $4 \times 9=36$ ④ $5 \times 5=25$

⑤ $6 \times 7=42$ ⑥ $7 \times 2=14$

⑦ $8 \times 4=32$ ⑧ $9 \times 8=72$

⑨ $7 \times 5=35$ ⑩ $6 \times 9=54$

6 あめ玉がいくつかあります。そのあめ玉に8こくわえたところ、ぜんぶで24こになりました。

① この場めんを図でかきましょう。

はじめ	8こ
-----	----

-----24こ-----

② はじめにあめ玉は、何こありましたか。

$24-8=16$ 16こ

B2	2年 算数	____年 ____ ^{くみ} 組 ____ ^{ばん} 番 名前 _____
-----------	--------------	---

7 □に当てはまる数を書きましょう。

①10dL = L

②1000mL = L

③10mm = cm

④3m = cm

⑤3cm6mm = mm

⑥209cm = m cm

8 □に当てはまる数を書きましょう。

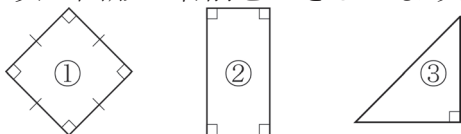
①60分 = 時間

②24時間 = 日

③80分 = 時間 分

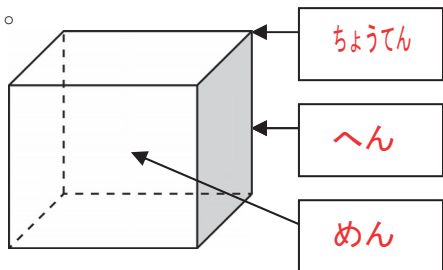
④1時間50分 = 分

9 次の図形の名前をかきましょう。



①正方形 ②長方形 ③直角三角形

10 □に当てはまることばをかきましょう。



11 すきないろをしらべました。ひょうやグラフにせいりしましょう。

あか	あお	あお	くろ	あお	もも
あお	あか	もも	くろ	あお	もも
くろ	あか	みどり	もも	あか	もも
くろ	あか	あか	あか	くろ	みどり

①ひょうにせいりしましょう。

しゅるい	あか	あお	くろ	もも	みどり
数(人)	7	5	5	5	2

②下のグラフにせいりしましょう。
すきないろしらべ

