


1年 7 (1)	とけい	___ねん ___くみ なまえ
----------------	-----	--------------------


1 なんじですか。

①



4じ

②



9じ


③



1じ


2 なんじはんですか。

①




2じはん

②



7じはん

③

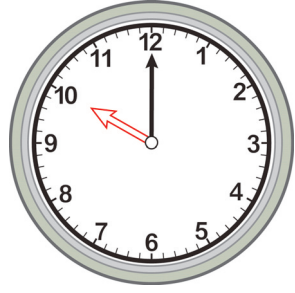


11じはん

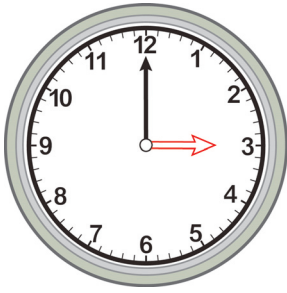
1年 <b>7</b> (2)	とけい	____ねん ____くみ なまえ
-----------------------	-----	----------------------

1 みじかい はりを かきましょう。


① 10じ



② 3じ


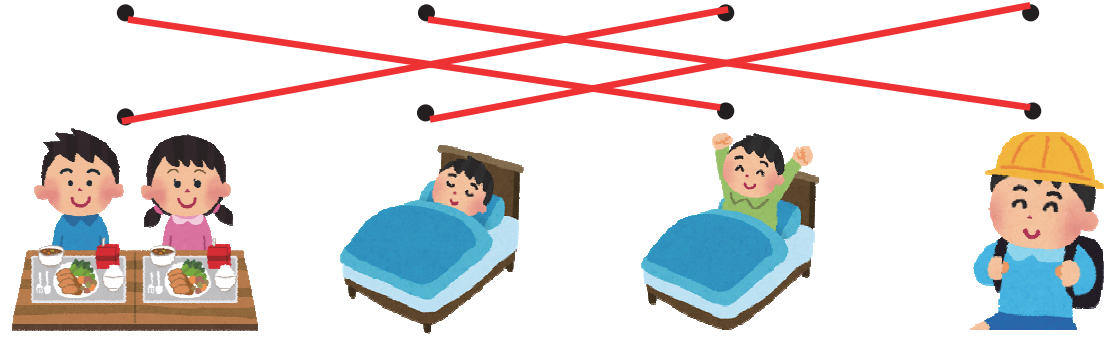




③ 5じ




2 下の えは さとしさんの 一日です。えの ようすと とけい  
 があう ものを —— で むすびましょう。

あさ → ひる → よる

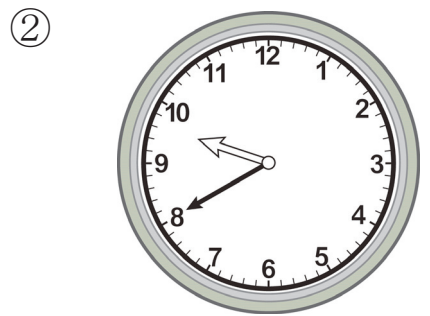


1年 7 (3)	とけい	___ねん ___くみ なまえ
----------------	-----	--------------------


1 なんじ なんぷんですか。



4じ10ぶん




9じ40ぶん




7じ20ぶん


2 なんじ なんぷんですか。



5じ15ぶん



12じ45ぶん



11じ5ぶん


1年  
7  
(4)

とけい

\_\_\_ねん \_\_\_くみ  
名前

1 なんじ なんぷんですか。

①




8じ17ふん

②



1じ23ふん

③



3じ41ふん

2 なんじ なんぷんですか。

①



4じ54ふん

②



11じ33ふん

③




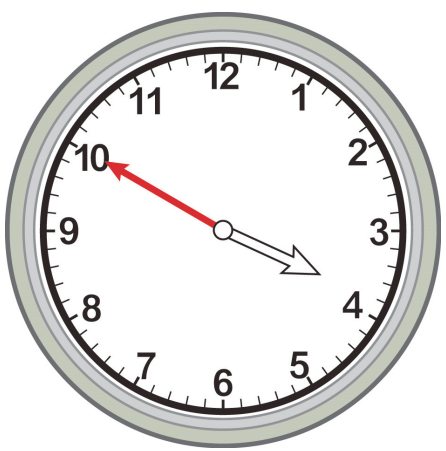
7じ2ふん

1年 7 (5)	とけい	___ねん ___くみ なまえ
----------------	-----	--------------------

1 ながい はりを かきましょう。

① 3じ50ぶん

② 7じ15ぶん



2 ながい はりを かきましょう。

① 1じ38ぶん

② 10じ24ぶん

