

3年 1 (1)	整数の表し方	____年 ____組 名前
-------------------------------------	---------------	-------------------

1読み方を書きましょう。

① 6 5 5 3 5

② 9 6 1 8 1 3

③ 2 2 0 4 7 8

④ 5 8 7 4 2 1 1 5

2次の数を数字で書きましょう。

① 四万八千二十九

② 三千二百十九万二千八百六十三

③ 六千七十四万八千百六

3当てはまる数を書きましょう。

① 7 2 4 9 8

1 0 0 0 0 が	()
1 0 0 0 が	()
1 0 0 が	()
1 0 が	()
1 が	()

② 4 0 0 0 0 0

1 0 0 0 0 が	()
-------------	-----

③ 6 2 1 0 0 0 0 0

1 0 0 0 0 が	()
-------------	-----

大きな数字を考えるときには、位取り表を思い出しましょう。

2 3 4 5 6 7 8 9 二千三百四十五万六千七百八十九

千万の位	百万の位	十万の位	一万の位	千の位	百の位	十の位	一の位
2	3	4	5	6	7	8	9

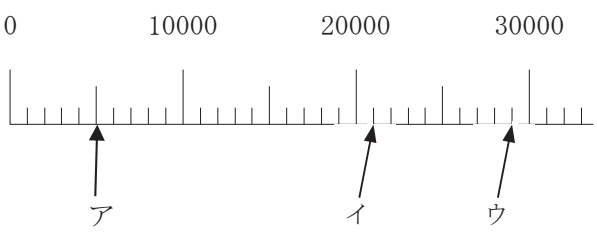
今までと同じように、10こあつまると1つ上の位に上がります。

3年 1 (2)	整数の表し方	____年 ____組 名前
-------------------------------------	---------------	-------------------

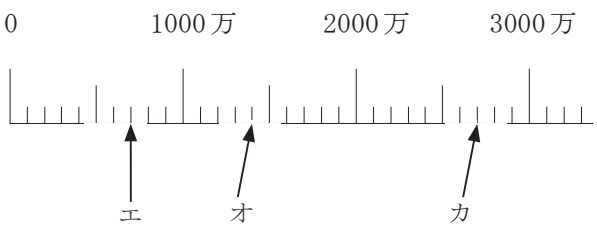
- 1** 次の数を書きましょう。
- ① 10000を4こと1000を2こと100を9こと10を1こと1を6こ合わせた数
 - ② 10000を7こと100を4こと10を8こと1を5こ合わせた数
 - ③ 10000を53こあつめた数
 - ④ 1000を17こあつめた数
 - ⑤ 千万を5こと百万を2こと十万を9こと一万を6こと1208を合わせた数
 - ⑥ 百万を7こと千を6こ合わせた数

2 数直線のア～カのめもりが表す数を書きましょう。

①



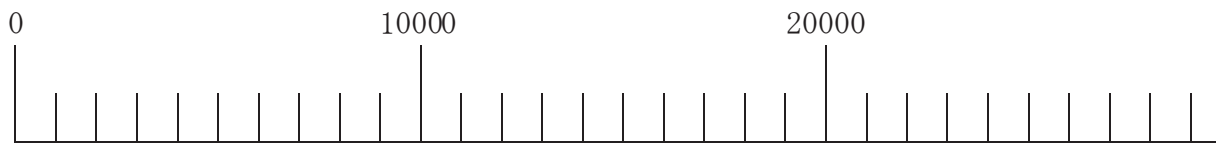
②



3 □に当てはまるふ等号を書きましょう。

- ① 64000 □ 73000
- ② 40998 □ 402294
- ③ 30827879 □ 3994178

数直線の1めもりがいくつなのか、たしかめましょう。



1めもりが1000だと1000、2000、3000・・・9000、10000 ⇒数えられる ○

1めもりが100だと100、200、300・・・900、10000 ⇒おかしい ×

とく組んだ日 月 日

3年

1

(3)

整数の表し方

___年 ___組

名前

1 次の数を10倍した数を書きましょう。

① 40 ② 79

③ 2090

2 次の数を $\frac{1}{10}$ にした数を書きましょう。

① 300 ② 920

③ 4300

3 次の数を100倍した数を書きましょう。

① 67 ② 580

③ 9000

4 次の数を1000倍した数を書きましょう。

① 70 ② 430

③ 5079

5 次の計算をしましょう。

① $732\text{万} + 187\text{万}$

② $469\text{万} + 83\text{万}$

③ $842\text{万} - 397\text{万}$

④ $387\text{万} - 295\text{万}$