

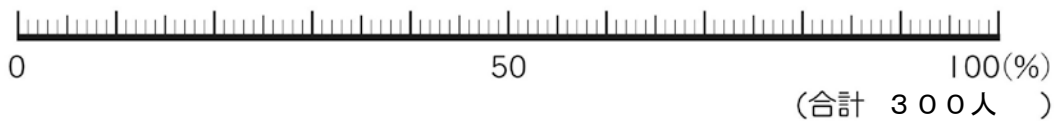
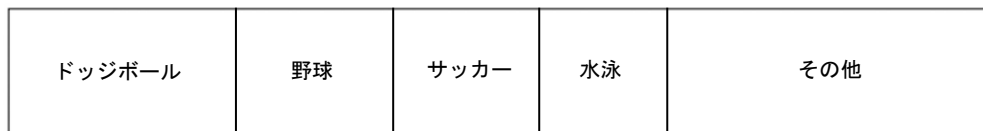
5年 <b>16</b> 解説	帯グラフや円グラフ	___年 ___組
		名前

帯グラフは全体を長方形で表し、各部分の割合を直線で区切って表します。  
円グラフは全体を円で表し、各部分の割合を半径で区切って表します。

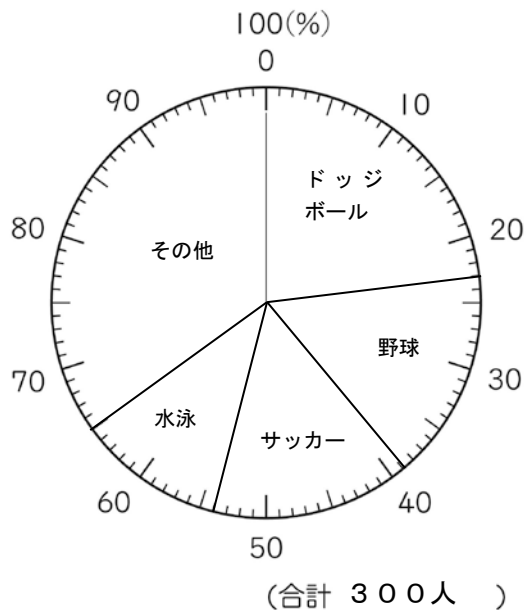
好きなスポーツ

	ドッジボール	野球	サッカー	水泳	その他	合計
人数(人)	69	48	45	34	104	300
百分率(%)	23	16	15	11	35	100

好きなスポーツ



好きなスポーツ



**帯グラフや円グラフのかき方**

- ①各部分の割合を百分率で求める。
- ②合計が 100%にならないときは、割合のいちばん大きい部分が「その他」を増やしたり減らしたりして合計を 100%にする。
- ③ふつう、割合の大きい順に、各部分をそれぞれの百分率にしたがって区切る。