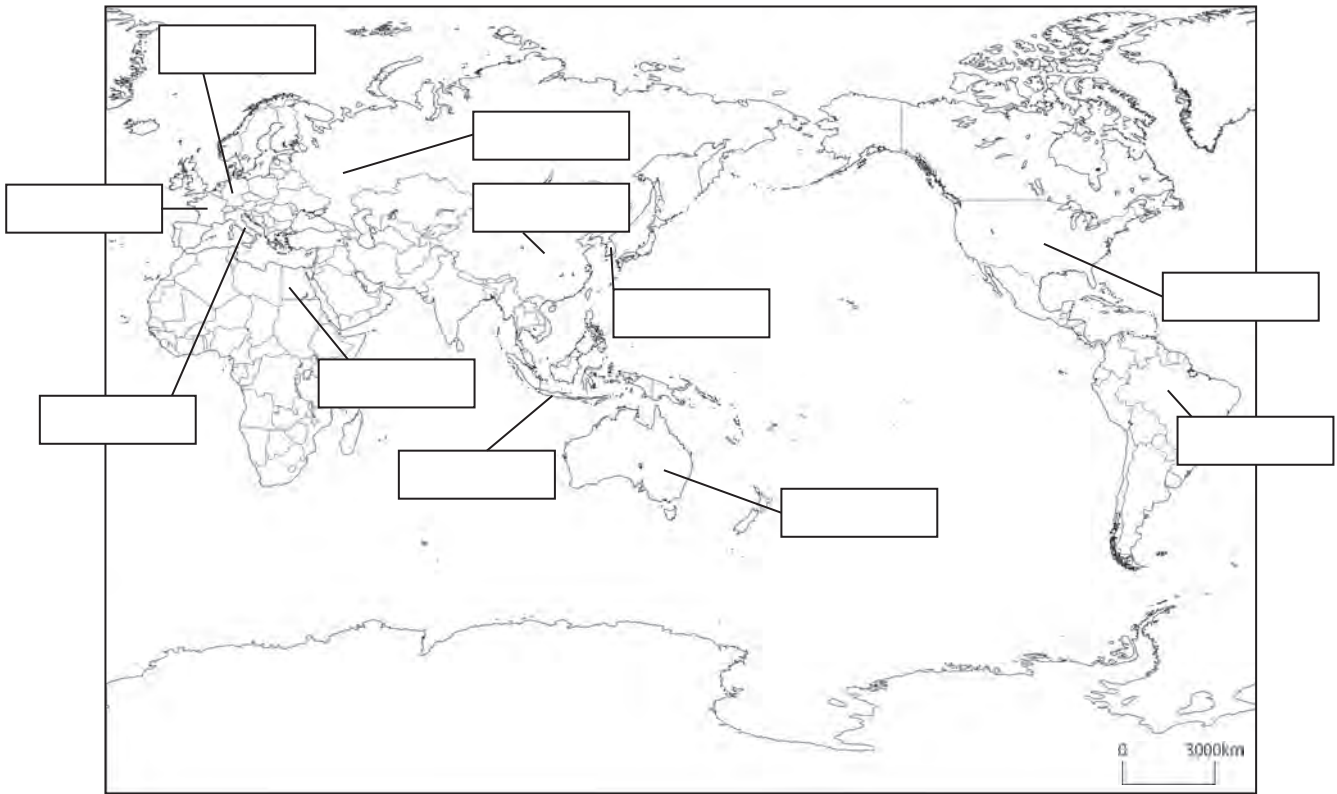


発展3	東京都と外国のつながり 1	___年 ___組
		名前

1 東京都は、次の11の姉妹友好都市と交流を行っています。11の姉妹友好都市がある国について、下の白地図の中の□に、①～⑪の番号を書きましょう。

- ① ニューヨーク市 (アメリカ合衆国)
- ② 北京市 (中華人民共和国)
- ③ パリ市 (フランス)
- ④ ニュー・サウス・ウェールズ州 (オーストラリア)
- ⑤ ソウル特別市 (大韓民国)
- ⑥ ジャカルタ特別市 (インドネシア)
- ⑦ サンパウロ州 (ブラジル)
- ⑧ カイロ県 (エジプト)
- ⑨ モスクワ市 (ロシア連邦)
- ⑩ ベルリン市 (ドイツ)
- ⑪ ローマ市 (イタリア)



2 次の①～④の国の国旗として正しいものを、下のア～エの中から選びましょう。

- ① アメリカ合衆国 ()
- ② 中華人民共和国 ()
- ③ 大韓民国 ()
- ④ オーストラリア ()

ア



イ



ウ



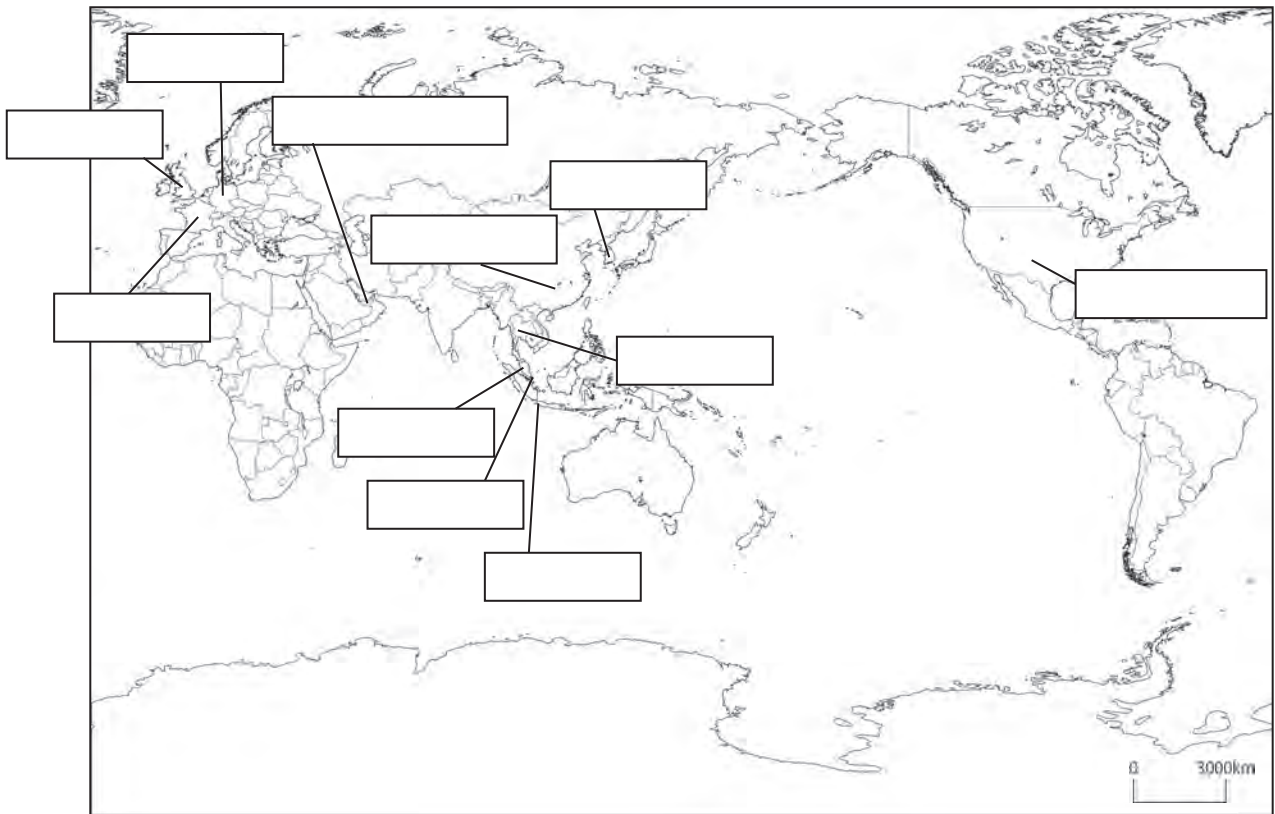
エ



発展4 東京都と外国のつながり2 名前 _____年 _____組

1 つぎ 次の国は、東京国際空港（羽田空港）から直行便が出ている国の中の名前です（平成25年4月現在）。①～⑪の国の番号を、下の白地図の中の□に書きましょう。

- ① 大韓民国
- ② アメリカ合衆国
- ③ マレーシア
- ④ 中華人民共和国
- ⑤ アラブ首長国連邦
- ⑥ インドネシア
- ⑦ シンガポール
- ⑧ タイ
- ⑨ フランス
- ⑩ ドイツ
- ⑪ イギリス



2 次の国旗は、上の①～⑪のいずれかの国の国旗です。国旗の下の□に国名を書きましょう。

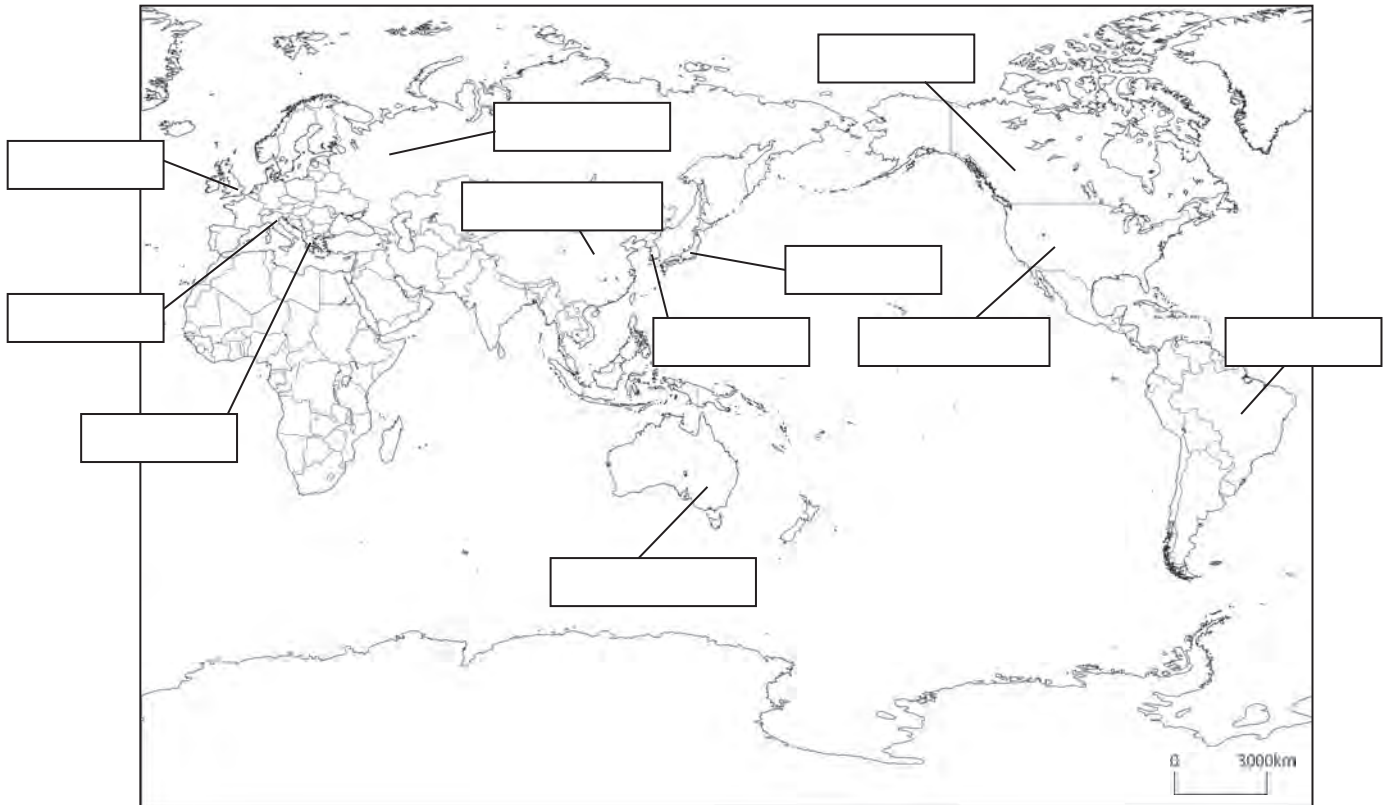


発展5	東京都と外国のつながり3	___年 ___組
		名前

次の①～⑪は、2000年から2020年の間にオリンピック・パラリンピックが行われた国と都市(予定も含む)です。

- | | |
|------------------------|----------------------------|
| ① 2000年 オーストラリア(シドニー) | ② 2002年 アメリカ合衆国(ソルトレークシティ) |
| ③ 2004年 ギリシャ(アテネ) | ④ 2006年 イタリア(トリノ) |
| ⑤ 2008年 中華人民共和国(北京) | ⑥ 2010年 カナダ(バンクーバー) |
| ⑦ 2012年 イギリス(ロンドン) | ⑧ 2014年 ロシア連邦(ソチ) |
| ⑨ 2016年 ブラジル(リオデジャネイロ) | ⑩ 2018年 大韓民国(ピョンチャン) |
| ⑪ 2020年 日本(東京) | |

1 上のそれぞれの国について、下の白地図の中の□に、①～⑪の番号を書きましよう。



2 次の国旗は、上の①～⑪のいずれかの国の国旗です。国旗の下の□に国名を書きましよう。

