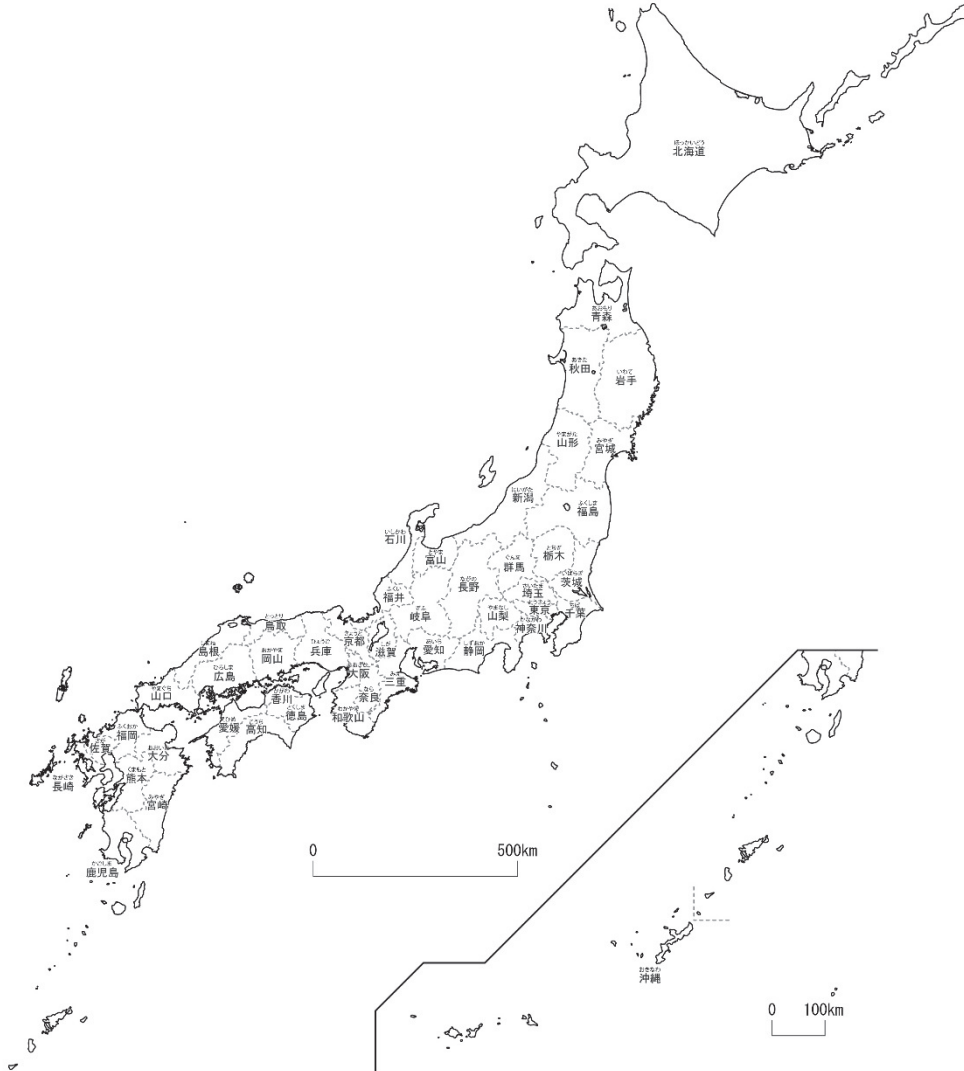


4-(1)	とどうふけん 日本の都道府県 1	___年 ___組
		名前

下の地図を見て答えましょう。



- ① あなたの住んでいる都道府県の名前を答え、赤色をぬりましょう。

ポイント 日本には、47都道府県（1都1道2府43県）があります。

- ② 都、道、府の名前をそれぞれ書きましょう。

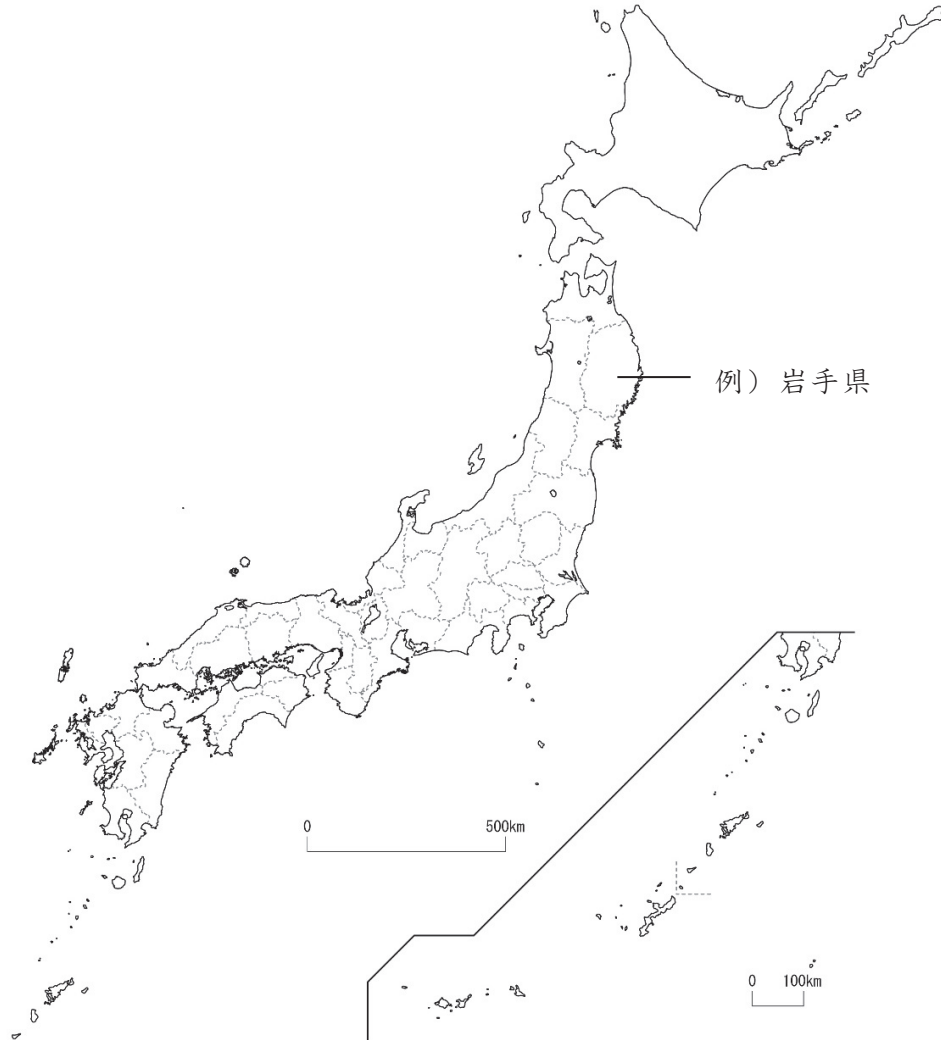
() 都 () 道

() 府 () 府

- ③ 東京都に面している県に青色をぬりましょう。

4-(2)	と どう ふ け ん 日本の都道府県 2	年 組
		名前

下の地図を見て答えましょう。



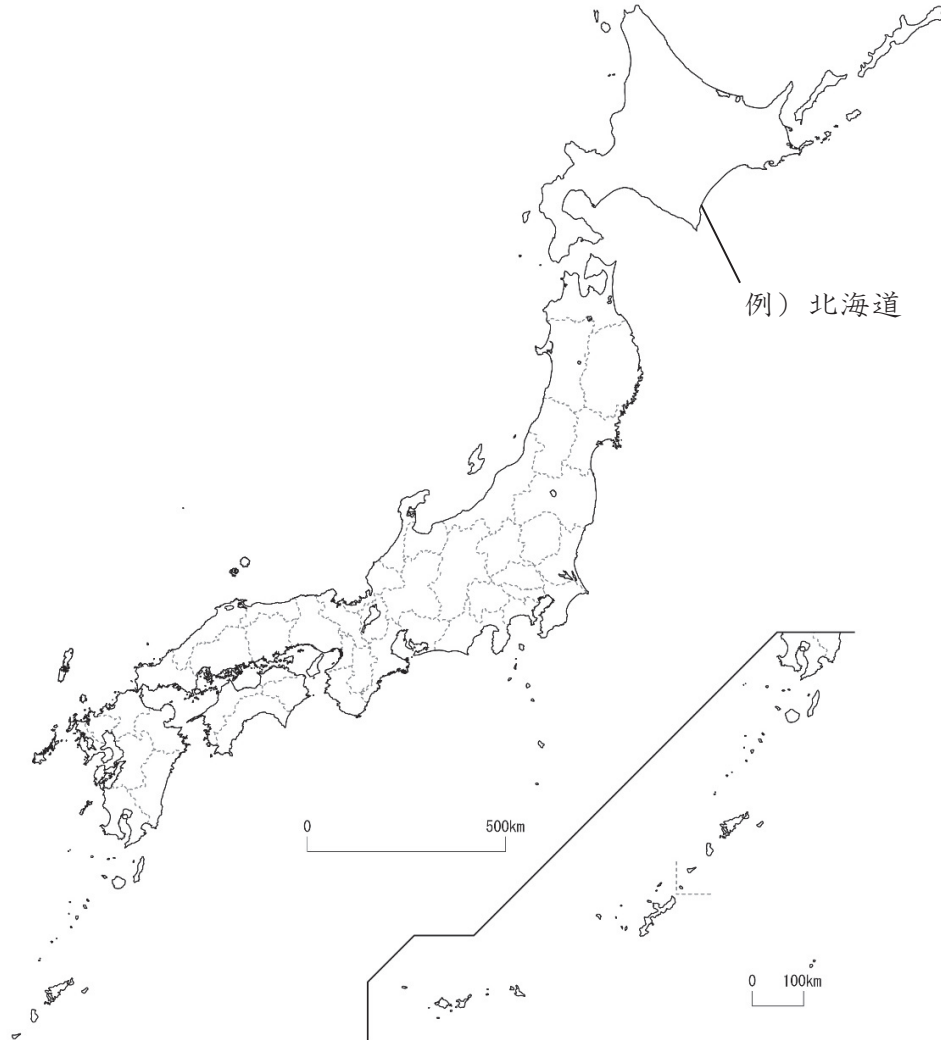
1 つぎの都道府県の位置を、例にならって白地図の中に書きましょう。

ほ っ かい どう 北海道	あ お も り け ん 青森県	に い が た け ん 新潟県	と や ま け ん 富山県	ぐ ん ま け ん 群馬県	し ず お か け ん 静岡県
わ か や ま け ん 和歌山県	お お さ か ふ 大阪府	ひ ろ し ま け ん 広島県	こ う ち け ん 高知県	く ま も と け ん 熊本県	か こ し ま け ん 鹿児島県

2 あなたが行ったことのある都道府県の名前を下の にすべて書き、上の地図に青色をぬりましょう。

4-(3)	日本の都道府県 3	___年 ___組
		名前

下の地図を見て答えましょう。



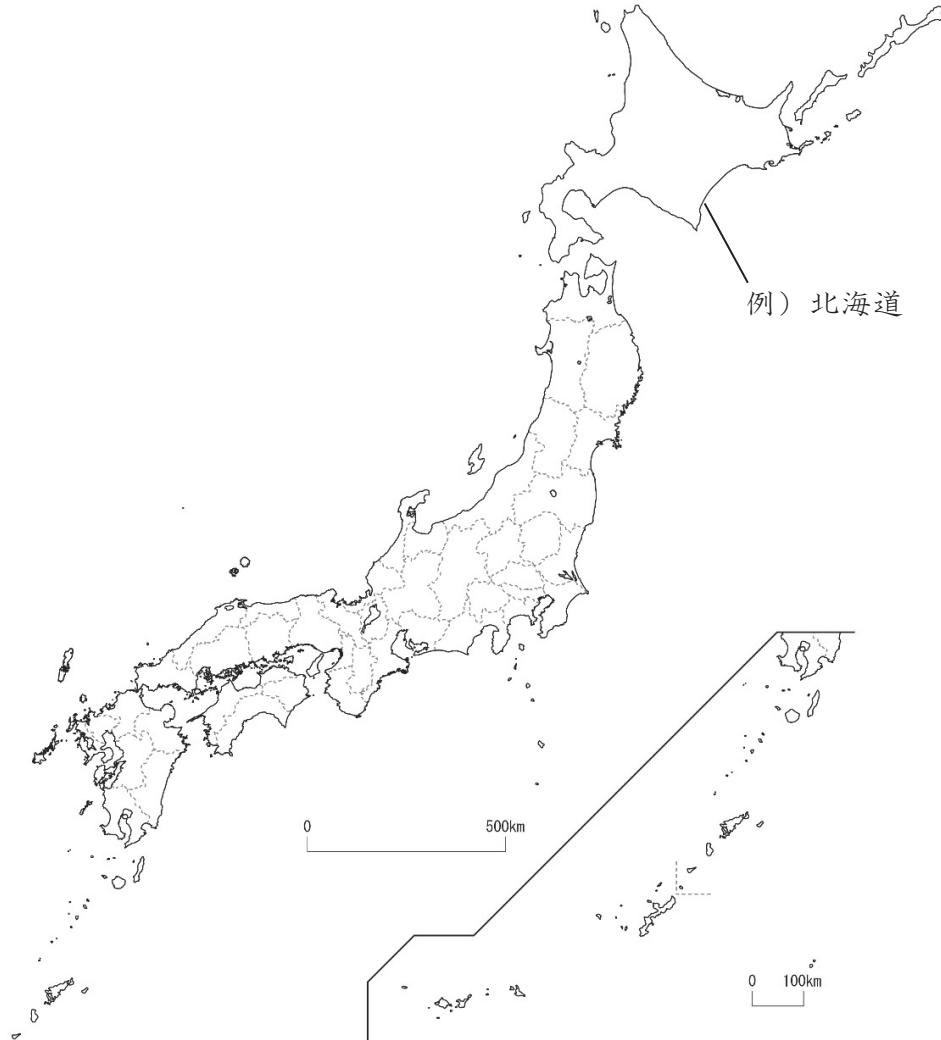
1 つぎの都道府県の位置を、例にならって白地図の中に入れて書きましょう。

- | | | | | | |
|--------------|---------------|---------------|---------------|--------------|-------------|
| いわてけん
岩手県 | さいたまけん
埼玉県 | いばらきけん
茨城県 | いしかわけん
石川県 | あいちけん
愛知県 | ぎふけん
岐阜県 |
| しがけん
滋賀県 | ならけん
奈良県 | かがわけん
香川県 | とっとりけん
鳥取県 | しまねけん
島根県 | |

2 名前に「山」の字が入っている都道府県の名前を下の にすべて書き、上の地図に青色をぬりましょう。

4-(4)	と どう ふ け ん 日本の都道府県 4	年 組
		名前

下の地図を見て答えましょう。



1 つぎの都道府県の位置を、例にならって白地図の中に書きましょう。

やまがたけん 山形県	みやぎけん 宮城県	ふくしまけん 福島県	かながわけん 神奈川県	ふくいけん 福井県	とうきょうと 東京都
ひょうごけん 兵庫県	とくしまけん 徳島県	ふくおかけん 福岡県	さがけん 佐賀県	みやざきけん 宮崎県	おきなわけん 沖縄県

2 海に面していない都道府県の名前を下の にすべて書き、上の地図に青色をぬりましょう。

4-(5)	日本の都道府県 <small>と どう ふ け ん</small> 5	___年 ___組
		名前

下の地図を見て答えましょう。



1 つぎの都道府県の位置を、例にならって白地図の中に書きましょう。

<small>あきたけん</small> 秋田県	<small>とちぎけん</small> 栃木県	<small>ちばけん</small> 千葉県	<small>やまなしけん</small> 山梨県	<small>ながのけん</small> 長野県	<small>みえけん</small> 三重県
<small>きょうとふ</small> 京都府	<small>えひめけん</small> 愛媛県	<small>おかやまけん</small> 岡山県	<small>やまぐちけん</small> 山口県	<small>ながさきけん</small> 長崎県	<small>おおいたけん</small> 大分県

2 名前に「動物」の字が入っている都道府県の名前を下の にすべて書き、上の地図に青色をぬりましょう。