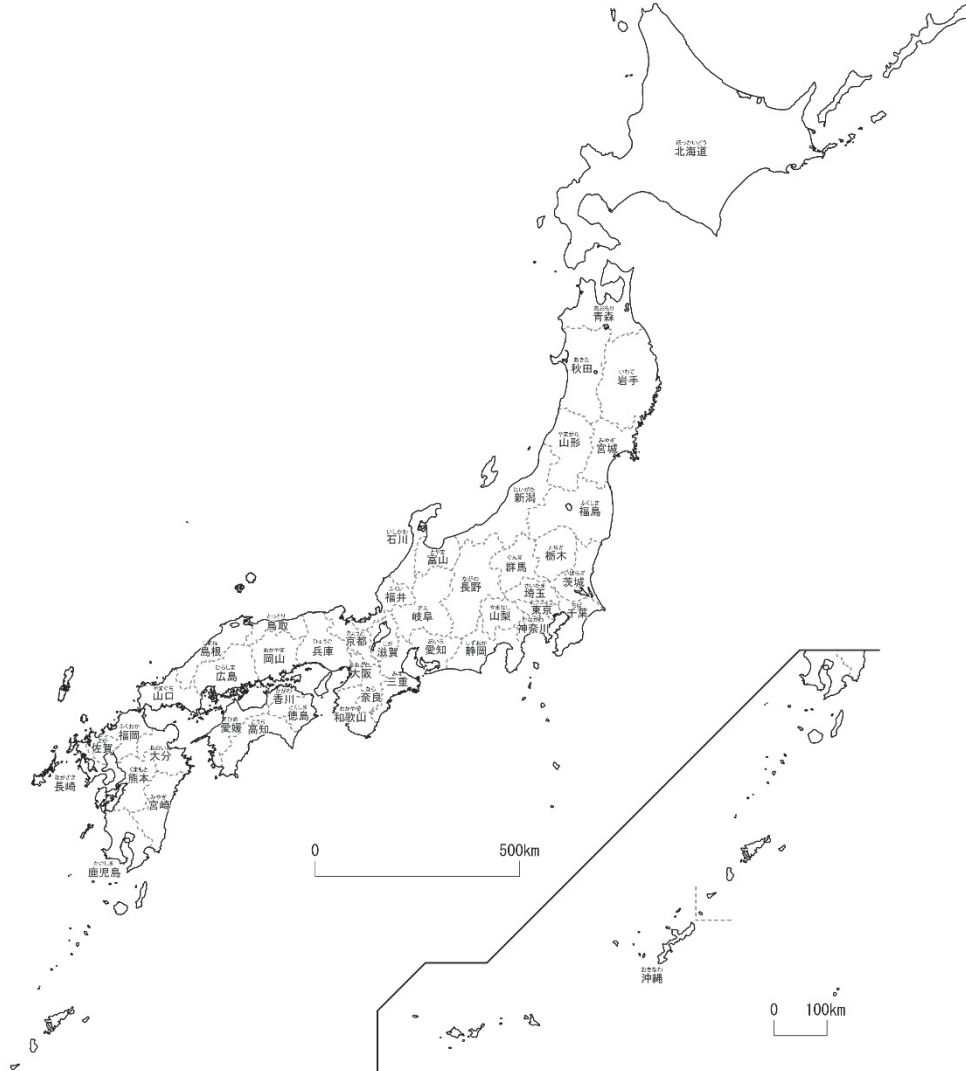


4-(1)	とどうふけん 日本の都道府県 1	___年 ___組
		名前

下の地図を見て答えましょう。



- ① あなたの住んでいる都道府県の名前を答え、赤色をぬりましょう。

東 京 都

ポイント 日本には、47都道府県（1都1道2府43県）があります。

- ② 都、道、府の名前をそれぞれ書きましょう。

（ 東 京 ） 都 （ 北 海 ） 道

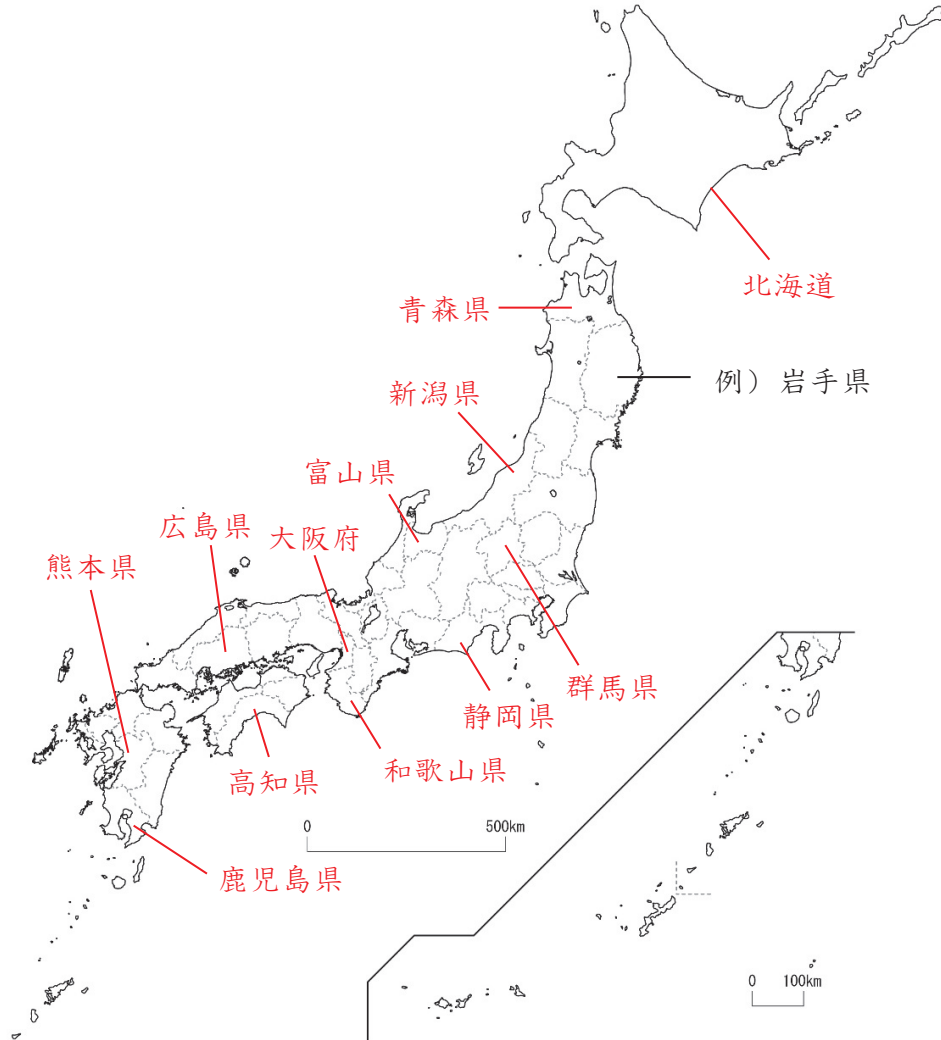
（ 京 都 ） 府 （ 大 阪 ） 府

- ③ 東京都に面している県に青色をぬりましょう。

（千葉県、埼玉県、山梨県、神奈川県にぬる）

4-(2)	日本の都道府県 2	年 組
		名前

下の地図を見て答えましょう。



1 つぎの都道府県の位置を、例にならって白地図の中に書きましょう。

ほっかいどう 北海道	あomoriken 青森県	にいがたけん 新潟県	とやまけん 富山県	ぐんまけん 群馬県	しずおかけん 静岡県
わかやまけん 和歌山県	おおさかふ 大阪府	ひろしまけん 広島県	こうちけん 高知県	くまもとけん 熊本県	かごしまけん 鹿児島県

2 あなたが行ったことのある都道府県の名前を下の にすべて書き、上の地図に青色をぬりましょう。

北海道、大阪府、沖縄県 など

4-(3)	日本の都道府県 3	年 組
		名前

下の地図を見て答えましょう。



1 つぎの都道府県の位置を、例にならって白地図の中に書きましょう。

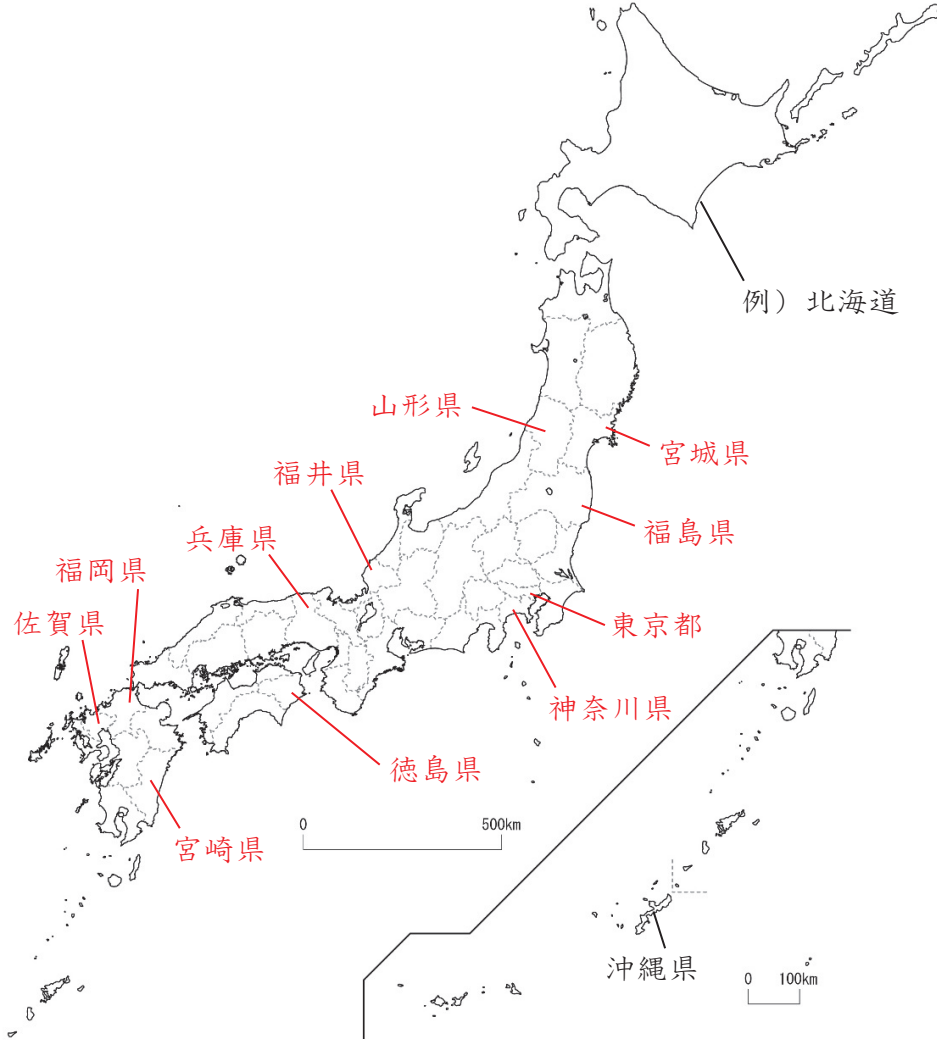
いわてけん 岩手県	さいたまけん 埼玉県	いばらきけん 茨城県	いしかわけん 石川県	あいちけん 愛知県	ぎふけん 岐阜県
しがけん 滋賀県	ならけん 奈良県	かがわけん 香川県	とっとりけん 鳥取県	しまねけん 島根県	

2 名前に「山」の字が入っている都道府県の名前を下の にすべて書き、上の地図に青色をぬりましょう。

山形県 山梨県 富山県 和歌山県 岡山県 山口県

4-(4)	とどうふけん 日本の都道府県 4	年 組
		名前

下の地図を見て答えましょう。



1 つぎの都道府県の位置を、例にならって白地図の中に書きましょう。

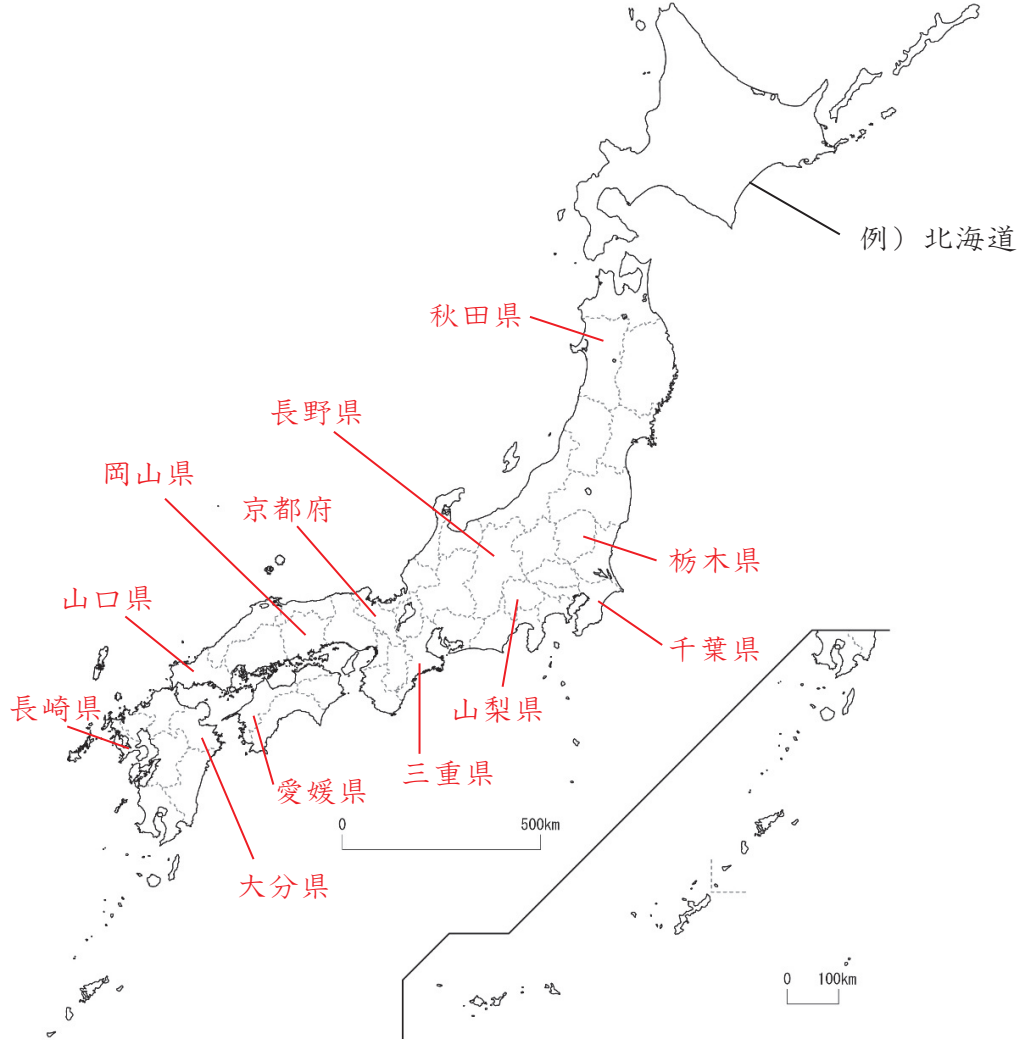
やまがたけん 山形県	みやぎけん 宮城県	ふくしまけん 福島県	かながわけん 神奈川県	ふくいけん 福井県	とうきょうと 東京都
ひょうごけん 兵庫県	とくしまけん 徳島県	ふくおかけん 福岡県	さがけん 佐賀県	みやざきけん 宮崎県	おきなわけん 沖縄県

2 海に面していない都道府県の名前を下の にすべて書き、上の地図に青色をぬりましょう。

栃木県 群馬県 埼玉県 山梨県 長野県 岐阜県 滋賀県 奈良県

4-(5)	日本の都道府県 <small>と どう ふ け ん</small> 5	___年 ___組
		名前

下の地図を見て答えましょう。



1 つぎの都道府県の位置を、例にならって白地図の中に書きましょう。

- | | | | | | |
|-----------------------------|-----------------------------|------------------------------|------------------------------|------------------------------|------------------------------|
| <small>あきたけん</small>
秋田県 | <small>とちぎけん</small>
栃木県 | <small>ちばけん</small>
千葉県 | <small>やまなしけん</small>
山梨県 | <small>ながのけん</small>
長野県 | <small>みえけん</small>
三重県 |
| <small>きょうとふ</small>
京都府 | <small>えひめけん</small>
愛媛県 | <small>おかやまけん</small>
岡山県 | <small>やまぐちけん</small>
山口県 | <small>ながさきけん</small>
長崎県 | <small>おおいたけん</small>
大分県 |

2 名前に「動物」の字が入っている都道府県の名前を下の にすべて書き、上の地図に青色をぬりましょう。

群馬県 鳥取県 熊本県 鹿児島県