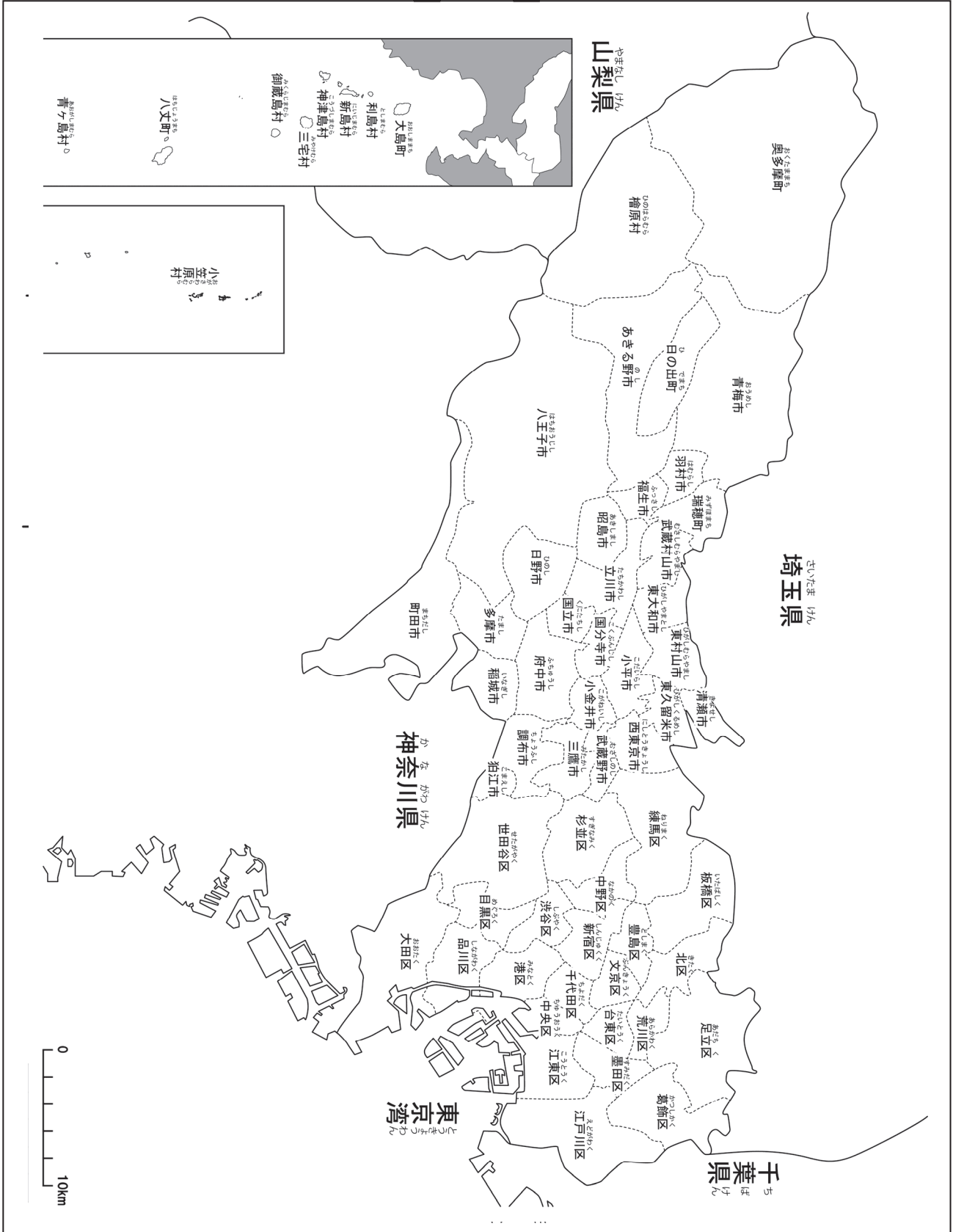


2	東京都の区市町村	年 組 名前
---	----------	-----------

東京都には、62の区市町村(23区、26市、5町、8村)があります。



2-(1)	東京都の区市町村 1	____年 ____組
		名前

下の地図を見て答えましょう。

- ① あなたがくらしている区市町村の名前を書きましょう。
- ② あなたがくらしている区市町村に赤色をぬりましょう。



ポイント 東京都には、62の区市町村（ ）が
あります。

- ③ あなたがくらしている区市町村の形を下の□の中に大きくかきましよう。
そして、あなたの家の位置に、◎をかきましよう。

2- (2)	東京都の区市町村 2	___年 ___組
		名前

下の地図を見て答えましょう。



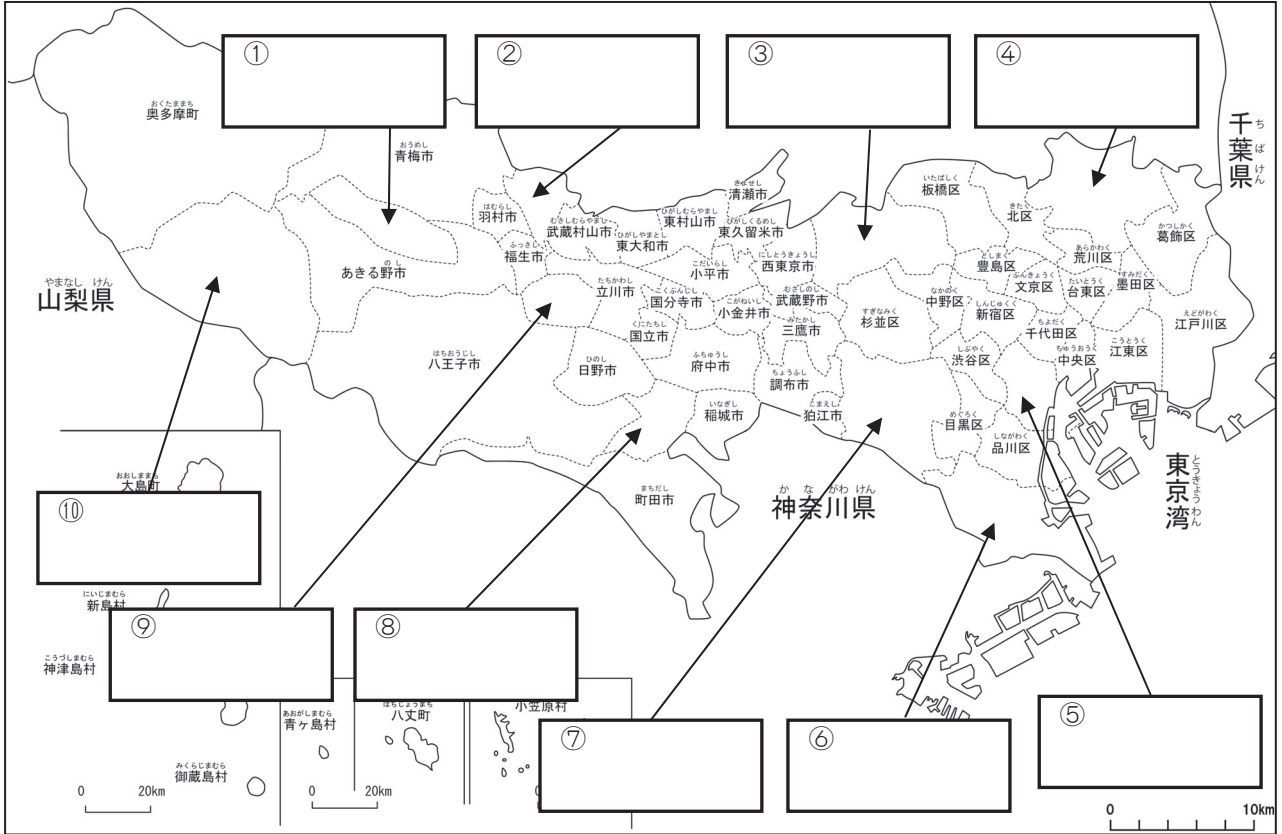
① あなたがくらしている区市町村の名前を書き、上の地図に赤色をぬりましょう。

② あなたがくらしている区市町村に面している区市町村や県の名前を書きましょう。

③ あなたが行ったことのある区市町村の名前を書き、上の地図に青色をぬりましょう。

2-(3)	東京都の区市町村 3	__年 __組
		名前

下の地図を見て答えましょう。

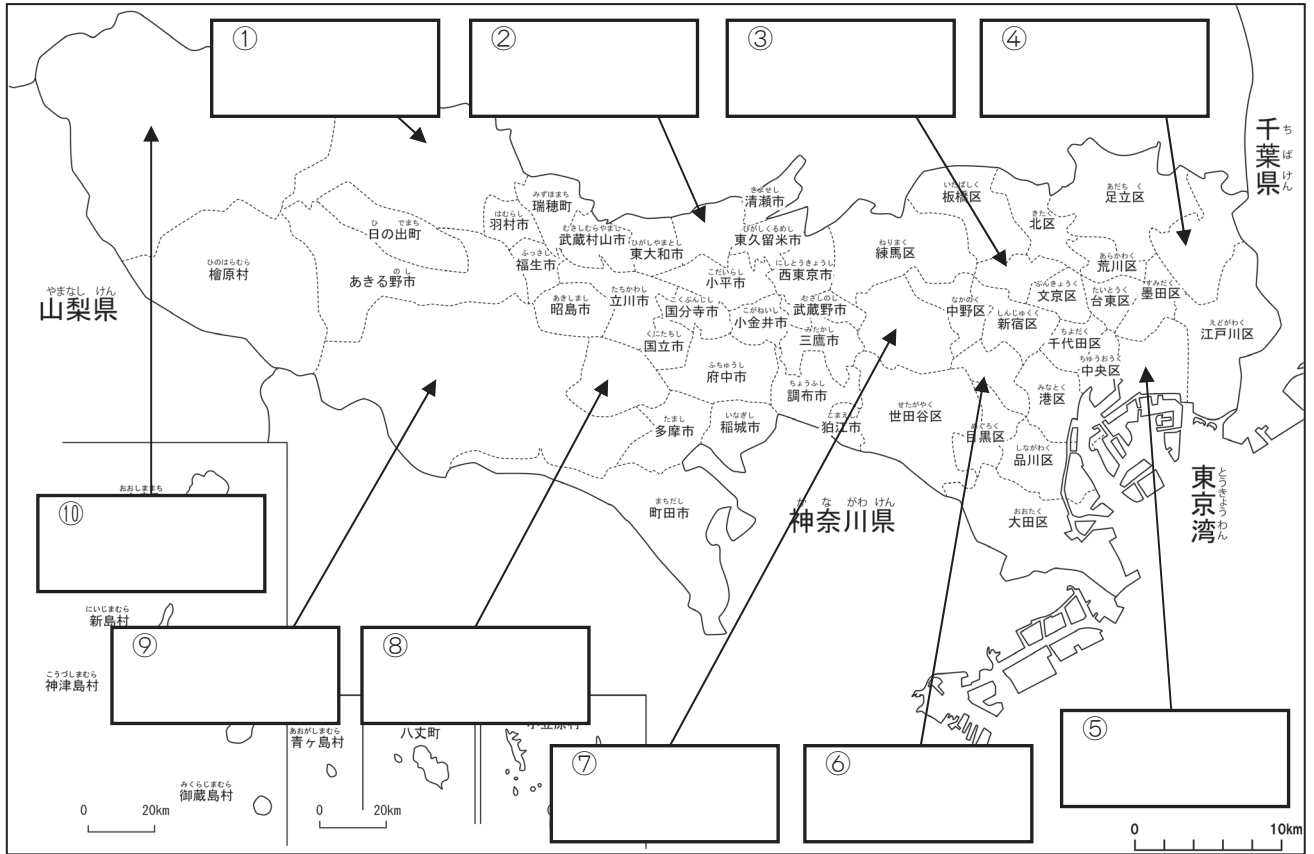


1 ①～⑩に当てはまる区市町村の名前を に書きましょう。また、あなたがくらしている区市町村に赤色をぬりましょう。

2 かながわけん 神奈川県と面している区市町村に青色をぬりましょう。そして、その区市町村の名前を、下の に書きましょう。

2-(4)	とく 東京都の区市町村 4	年 組
		名前

下の地図を見て答えましょう。



1 ①～⑩に当てはまる区市町村の名前を [] に書きましょう。また、あなたが知っている区市町村に赤色をぬりましょう。

2 やまなしけん 山梨県に面している区市町村に青色をぬりましょう。また、ちばけん 千葉県に面している区市町村に黄色をぬりましょう。そして、その区市町村の名前を、下の [] に書きましょう。

○山梨県に面している区市町村

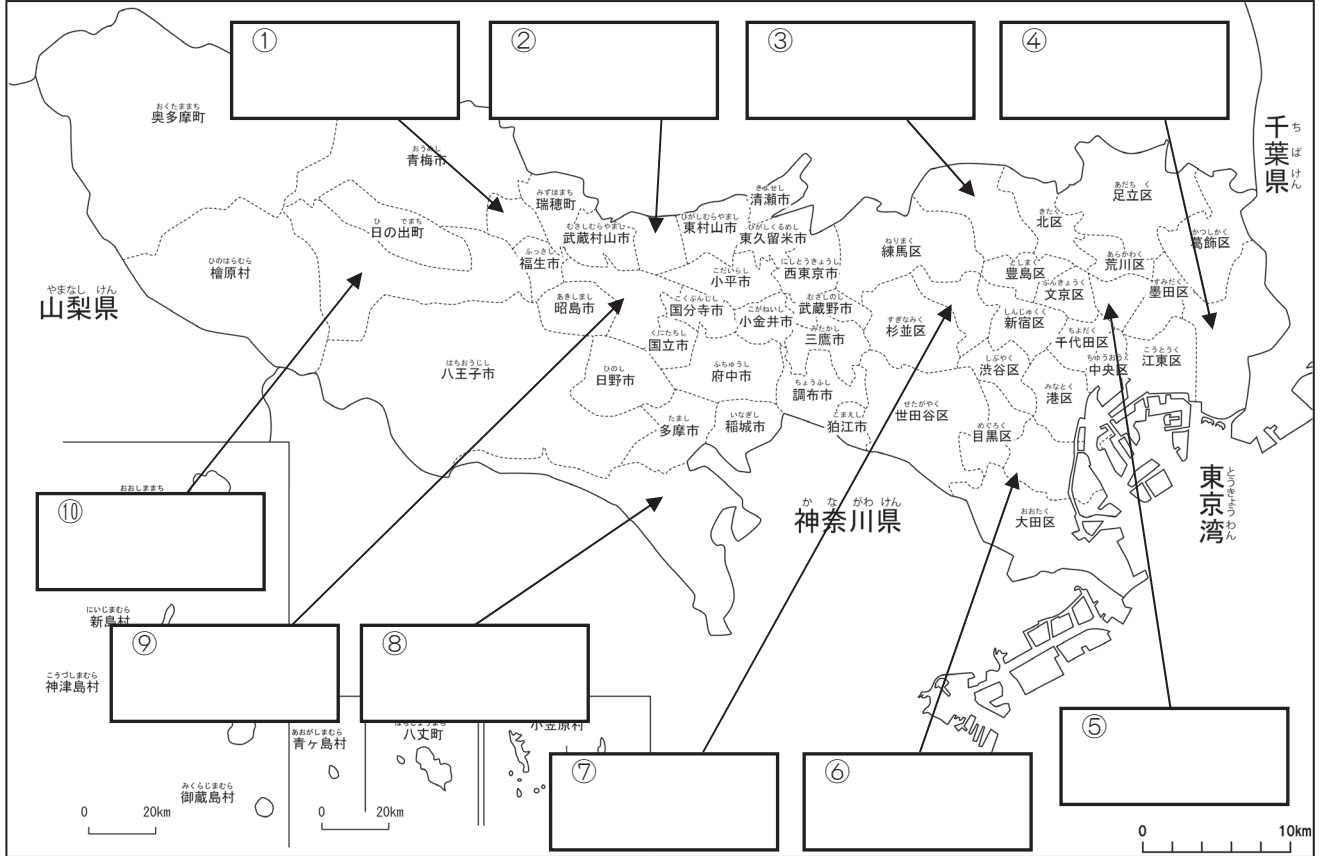
--	--

○千葉県に面している区市町村

--	--

2-(5)	東京都の区市町村 5	__年 __組
		名前

下の地図を見て答えましょう。



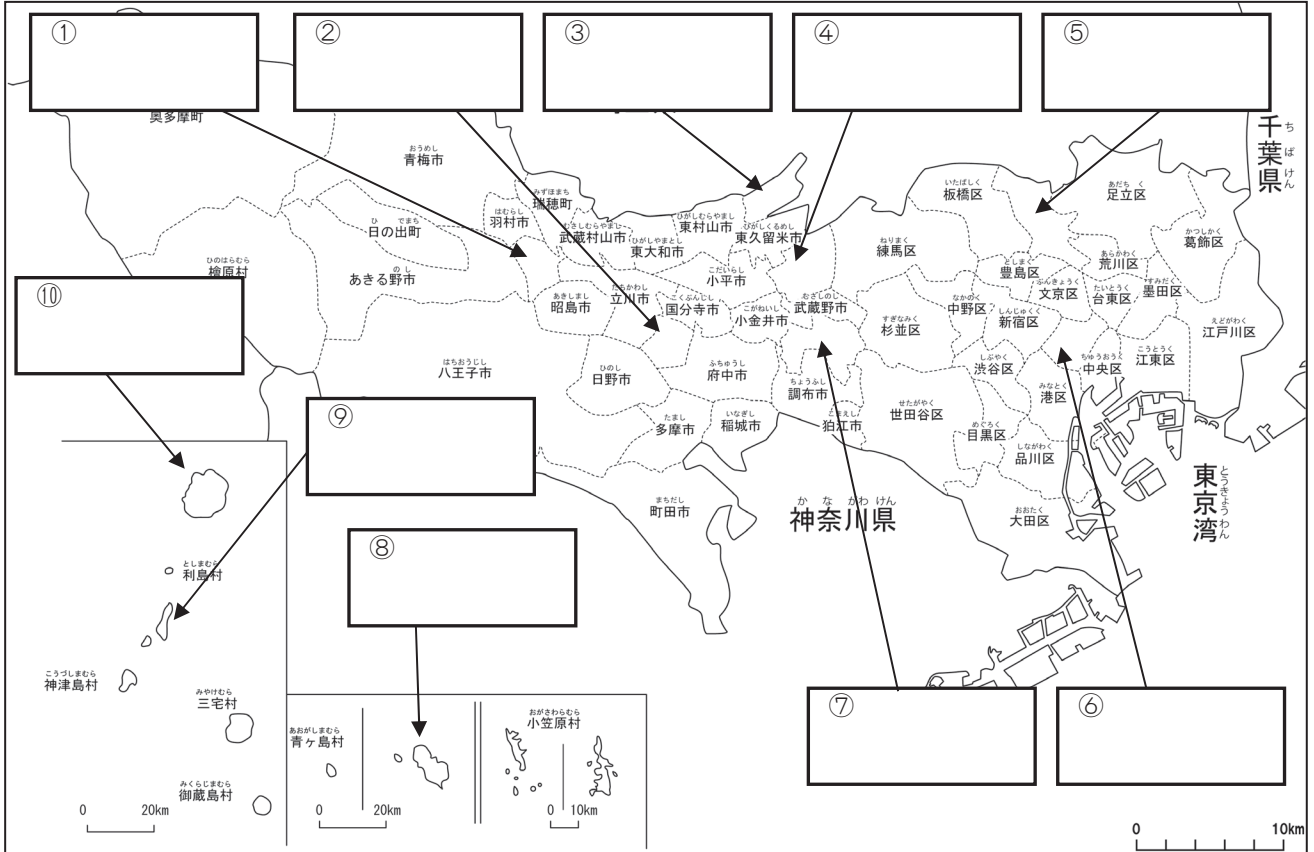
1 ①～⑩に当てはまる区市町村の名前を に書きましょう。また、あなたがくらしている区市町村に赤色をぬりましょう。

2 ^{さいたまけん} ^{めん} 埼玉県に面している区市町村に青色をぬりましょう。そして、その区市町村の名前を、下の に書きましょう。

<input type="text"/>	<input type="text"/>	<input type="text"/>	<input type="text"/>
<input type="text"/>	<input type="text"/>	<input type="text"/>	<input type="text"/>
<input type="text"/>	<input type="text"/>	<input type="text"/>	<input type="text"/>
<input type="text"/>	<input type="text"/>	<input type="text"/>	<input type="text"/>

2-(6)	東京都の区市町村 6	___年 ___組
		名前

下の地図を見て答えましょう。

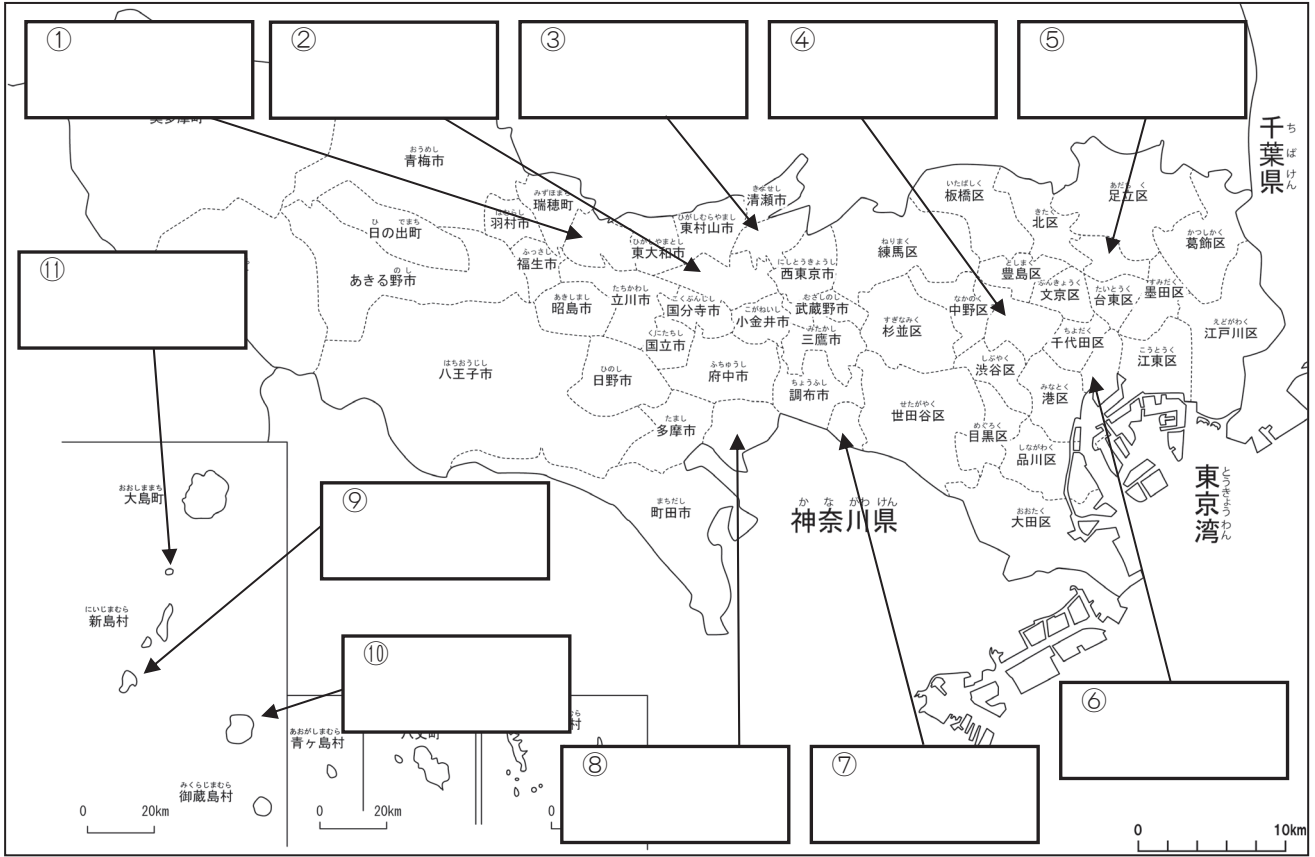


- ①～⑩に当てはまる区市町村の名前を に書きましょう。また、あなたがくらしている区市町村に赤色をぬりましょう。
- 東京湾に面している区市町村に青色をぬりましょう。そして、その区市町村の名前を、下の に書きましょう。

<input type="text"/>	<input type="text"/>	<input type="text"/>
<input type="text"/>	<input type="text"/>	<input type="text"/>

2-(7)	東京都の区市町村 7	__年 __組
		名前

下の地図を見て答えましょう。

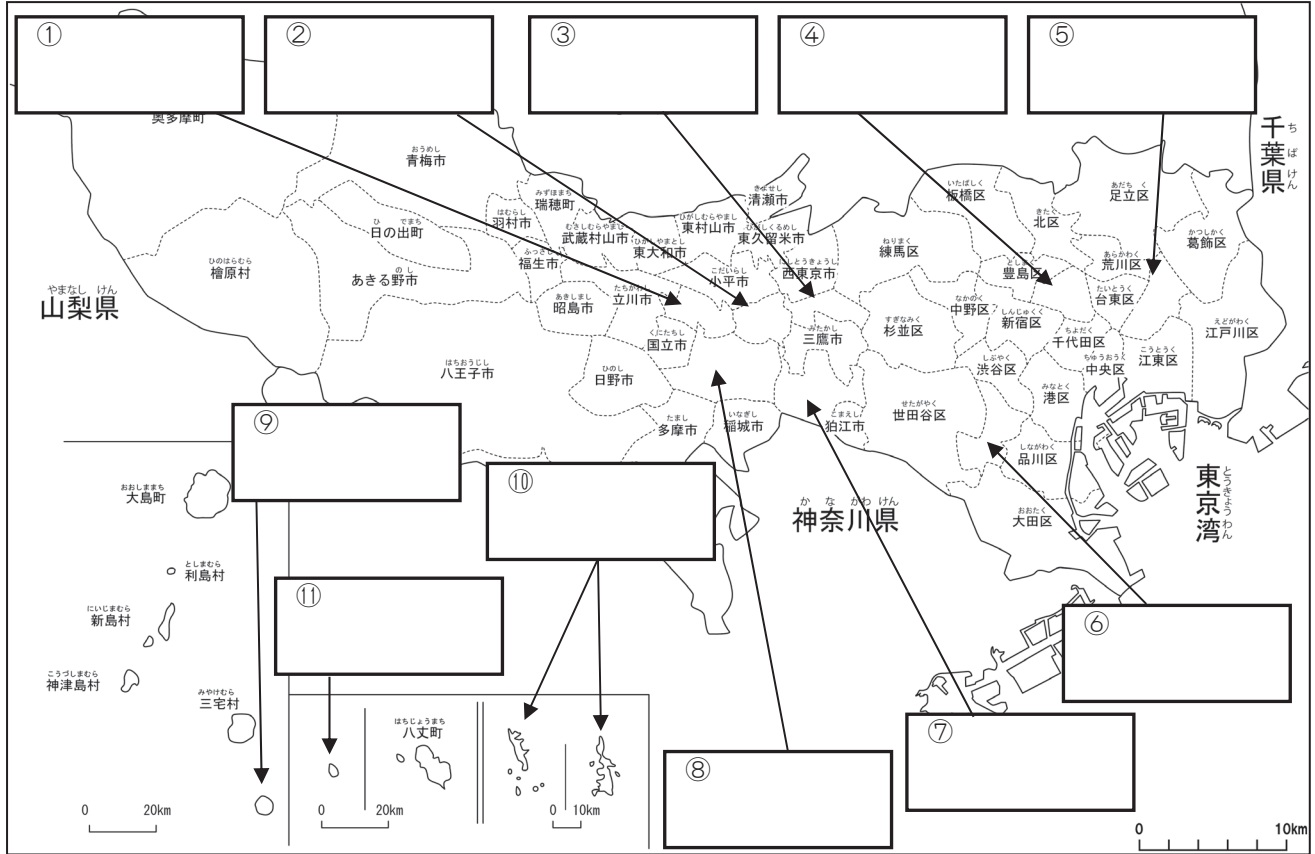


1 ①～⑪に当てはまる区市町村の名前を に書きましょう。また、あなたがくらしている区市町村に赤色をぬりましょう。

2 名前に「大・中・小」の字が入っている区市町村に青色をぬりましょう。そして、その区市町村の名前を、下の に書きましょう。

2-(8)	東京都の区市町村 8	__年 __組
		名前

下の地図を見て答えましょう。

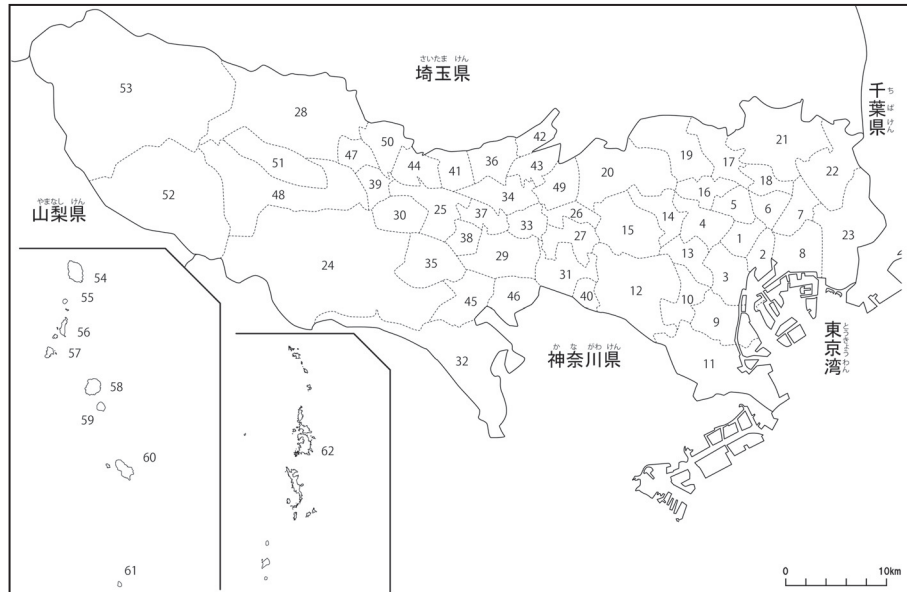


1 ①～⑪に当てはまる区市町村の名前を に書きましょう。また、あなたがくらしている区市町村に赤色をぬりましょう。

2 名前に「東西南北」の字が入っている区市町村に青色をぬりましょう。そして、その区市町村の名前を、下の に書きましょう。

2-(9)	東京都の区市町村 9	____年 ____組
		名前

右の地図を見て
答えましょう。



1 1～62に当てはまる区市町村の名前を()に書きましょう。

- | | | | |
|-------|-------|-------|-------|
| 1() | 2() | 3() | 4() |
| 5() | 6() | 7() | 8() |
| 9() | 10() | 11() | 12() |
| 13() | 14() | 15() | 16() |
| 17() | 18() | 19() | 20() |
| 21() | 22() | 23() | 24() |
| 25() | 26() | 27() | 28() |
| 29() | 30() | 31() | 32() |
| 33() | 34() | 35() | 36() |
| 37() | 38() | 39() | 40() |
| 41() | 42() | 43() | 44() |
| 45() | 46() | 47() | 48() |
| 49() | 50() | 51() | 52() |
| 53() | 54() | 55() | 56() |
| 57() | 58() | 59() | 60() |
| 61() | 62() | | |